



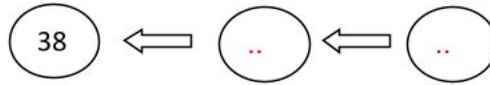

## فرض الفصل الثاني في مادة الرياضيات

فيفري 2016

المستوى: الأول ابتدائي (1AP)

### التمرين 1: 1.5

أكمل للحصول على متتالية عددية.



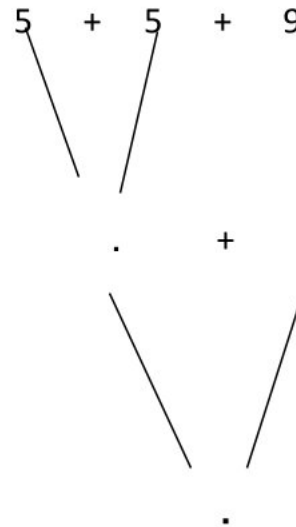
### التمرين 2: 1.5

أحسب المجاميع التالية.

$$15+6= ..$$

$$7+7= ..$$

$$10+7= ..$$



### التمرين 3: 1ن

أرسم ثلاث مربعات تقع على نفس الاستقامة.



### التمرين 4: 3ن

أ - فكك ما يلي :

$$25 = \dots + \dots$$

$$31 = \dots + 1$$

$$\dots = 30 + 9$$

ب- أكمل الجدول :

| عدد الوحدات | رقم الوحدات | رقم العشرات | العدد |
|-------------|-------------|-------------|-------|
| .....       | .....       | .....       | 21    |
| .....       | .....       | .....       | 33    |
| 43          | .....       | .....       | ..... |

### التمرين 4: 1.5ن

أربط كل بطاقة بالعدد المناسب.

|    |
|----|
| 41 |
| 20 |
| 35 |

|       |
|-------|
| 30+5  |
| 40+1  |
| 10+10 |

### التمرين 5: 1.5ن

ألون البطاقة المناسبة.

|    |         |    |
|----|---------|----|
| 45 | أكبر من | 54 |
|    | يساوي   |    |
|    | أصغر من |    |

|    |         |      |
|----|---------|------|
| 40 | أكبر من | 2+38 |
|    | يساوي   |      |
|    | أصغر من |      |

|    |         |      |
|----|---------|------|
| 35 | أكبر من | 2+20 |
|    | يساوي   |      |
|    | أصغر من |      |

## اختبار شهر فيفري في مادة الرياضيات

### 1 ابتدائي

#### التمرين 1: 1.5ن

أكمل للحصول على متتالية عددية.



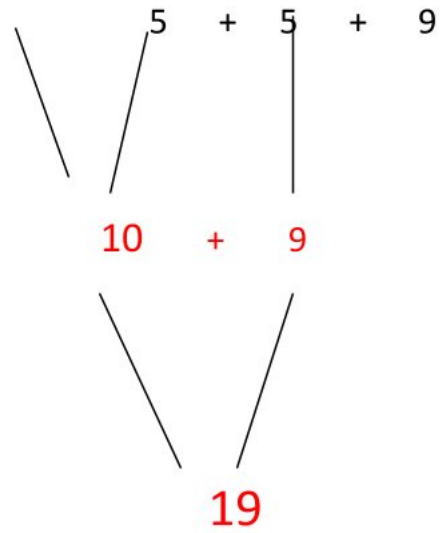
#### التمرين 2: 1.5ن

أحسب المجاميع التالية.

$$15+6= 21$$


$$7+7= 14$$

$$10+7= 17$$



#### التمرين 3: 1ن

أرسم ثلاث مربعات تقع على نفس الاستقامة.



### التمرين 4: 3ن

أ - فكك ما يلي :

$$25 = 20 + 5$$

$$31 = 30 + 1$$

$$39 = 30 + 9$$

ب- أكمل الجدول :

| عدد الوحدات | رقم الوحدات | رقم العشرات | العدد |
|-------------|-------------|-------------|-------|
| 21          | 1           | 2           | 21    |
| 33          | 3           | 3           | 33    |
| 43          | 3           | 4           | 43    |

### التمرين 4: 1.5ن

أربط كل بطاقة بالعدد المناسب.

|    |   |       |
|----|---|-------|
| 41 | ← | 30+5  |
| 20 | ← | 40+1  |
| 35 | ← | 10+10 |

### التمرين 5: 1.5ن

ألون البطاقة المناسبة.

|    |         |    |
|----|---------|----|
| 45 | أكبر من | 54 |
|    | يساوي   |    |
|    | أصغر من |    |

|    |         |      |
|----|---------|------|
| 35 | أكبر من | 2+20 |
|    | يساوي   |      |
|    | أصغر من |      |

|    |         |      |
|----|---------|------|
| 40 | أكبر من | 2+38 |
|    | يساوي   |      |
|    | أصغر من |      |