

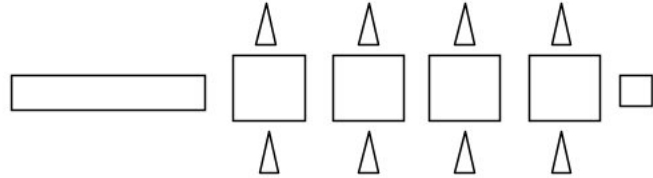


المستوى :الأولى ابتدائي (1AP) فيفري : 2017

تقويم رقم (2) للفصل الثاني في مادة الرياضيات

التمرين الأول:

أحسب الأشكال ثم أكتب العدد



عدد المثلثات هو:

عدد المربعات هو:

التمرين الثاني:

أكتب بالحروف أو بالأرقام

سبعة عشر:

عشرون:

10:

3:

التمرين الثالث:


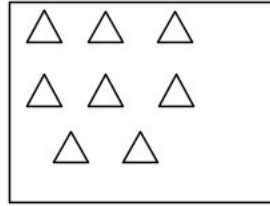
رتب الأعداد من الأصغر إلى الأكبر

12 10 19 16 18 9 14 13

9 . . . 14 . . .

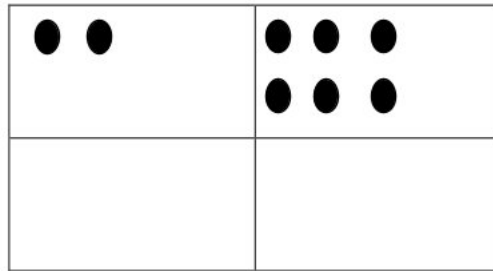
التمرين الرابع:

لون نصف الأشياء في كل بطاقة



التمرين الخامس:

رسمت خديجة قريصات أرسم ضعف ما رسمت





التمرين السادس: أكمل

الأرنب في السطر و في العمود

الفيل في السطر و في العمود

أرسم قريصة في السطر 4 و في العمود 3

				4
				3
				2
				1
1	2	3	4	

الوضعية الإدماجية: عند أحمد 9 كرية خسر منها 5 كريات .

- كم كرية صارت عند أحمد ؟

صارت عند أحمد

تصحيح تقويم شهر فيفري

التمرين الأول (2ن)

عدد المثلثات هو: 8 مثلثات.....1ن

عدد المربعات هو: 5 مربعات.....1ن

التمرين الثاني: (2 ن)

أكتب بالحروف أو بالأرقام

سبعة عشر: 17 0.5ن

عشرون: 20 0.5ن

10: عشرة 0.5 ن

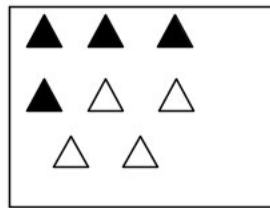
3: ثلاثة 0.5 ن

التمرين الثالث: (1.5 ن)

9	10	12	13	14	16	18	19
---	----	----	----	----	----	----	----


التمرين الرابع (1ن)

لون نصف الأشياء في كل بطاقة



التمرين الخامس: (1 ن)

رسمت خديجة قريصات أرسم ضعف ما رسمت






التمرين السادس: أكمل.....(1.5 ن)

الأرنب في السطر الأول و في العمود الثاني0.5 ن

الفيل في السطر الثالث و في العمود الثالث.....0.5 ن

أرسم قريصة في السطر 4 و في العمود 30.5 ن

				4
				3
				2
				1
1	2	3	4	

الوضعية الإدماجية:.....(1 ن).

صارت عند أحمد . $9 - 5 = 4$