


اختبار الفصل الثالث في مادة الرياضيات



النشاط الاول: 1.5 ن اكمل :

يُوجَدُ عشرات و.....وَوَحَدَاتُ

العَدَدُ هُوَ.....

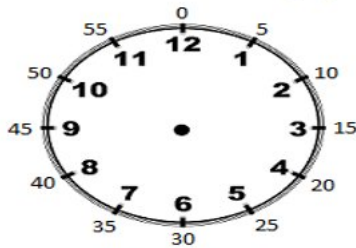
النشاط الثاني: 1.5 أَضْعُ أَكْبَرُ مِنْ / أَصْغَرُ مِنْ / =

$$62 \quad . \quad 98$$

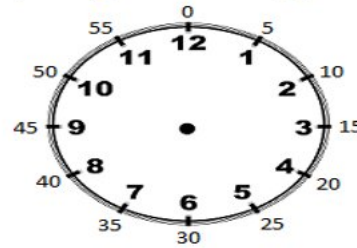
$$99 \quad . \quad 80$$

$$10+5 \quad . \quad 5+10$$

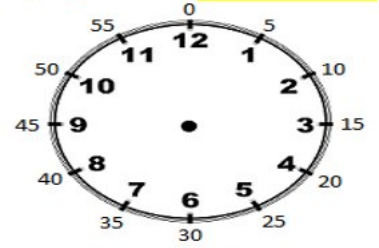
النشاط الثالث: 1.5 ن ارسم عقارب الساعة على حسب كل توقيت



5.30



8.00



1.15

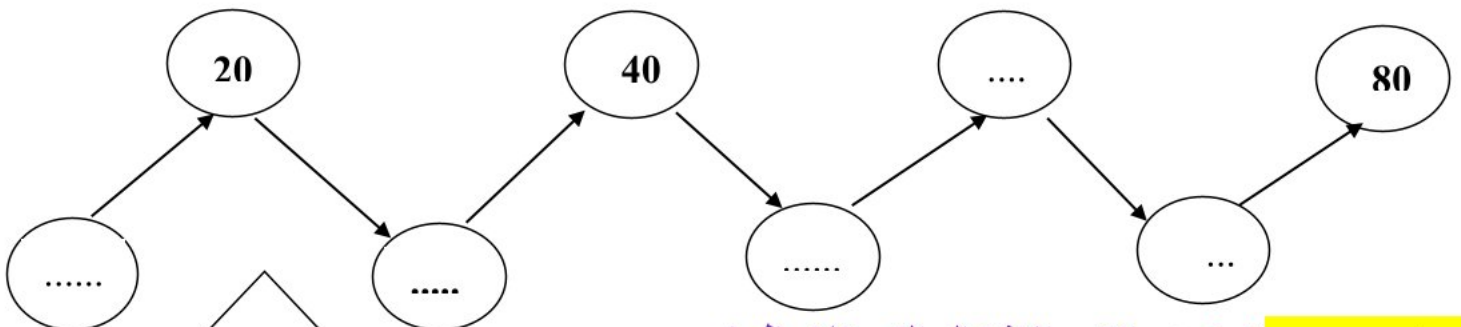
النشاط الرابع: 1.5 ن أنجز العمليات التالية

$$\begin{array}{r} 47 \\ +51 \\ \hline = \end{array}$$

$$\begin{array}{r} 32 \\ +31 \\ \hline = \end{array}$$

$$\begin{array}{r} 56 \\ +12 \\ \hline = \end{array}$$

النشاط الخامس: 1.5 ن أكمل بالأعداد المناسبة



النشاط الخامس: 1.5 ن اكتب الاشكال التي تلاحظها

.....-1

.....-2

.....-3

.....-4