

إختبار الفصل الثاني في الرياضيات



* أساعد الولد ليصعد إلى أعلى الدرج ثم لينزل أيضا :

25

26

....

....

35

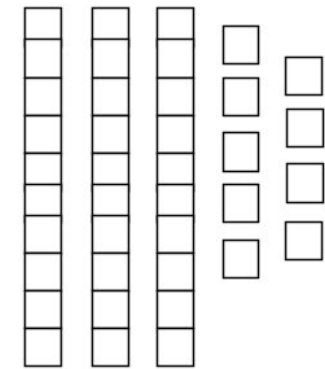
34

....

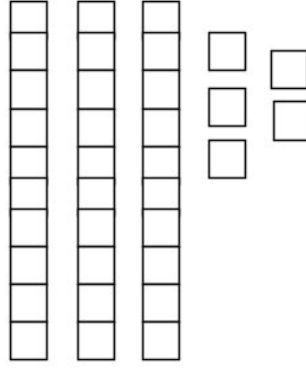
....



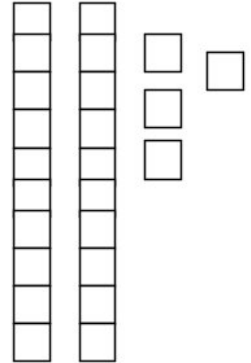
* أحسب ثم أكتب في جدول العشرات و الوحدات :



ع	و
....



ع	و
....

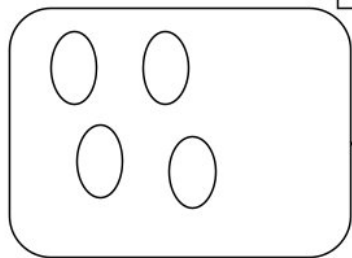


ع	و
....

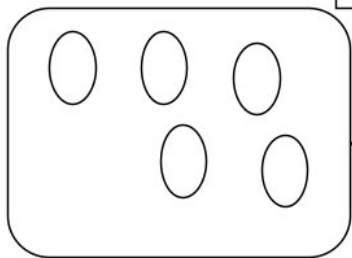
* أكمل رسم الأشكال الناقصة :

ن 1.5

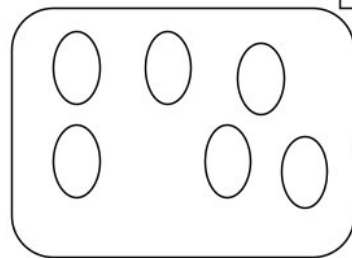
9



9

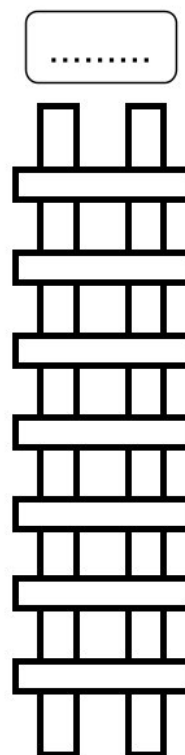
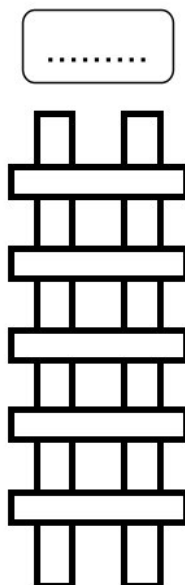
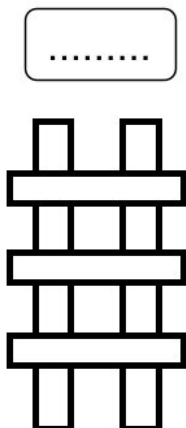
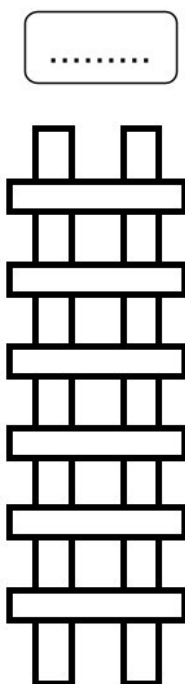


9



* رتب هذه السلالم من الأطول إلى الأقصر :

ن 2

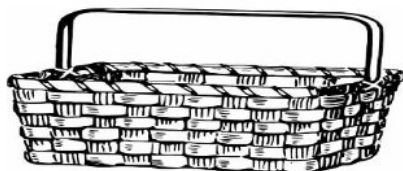


ن 1.5

* سيتقاسم الشارف و أمال هاته البرتقالات بالتساوي ، كم سيضع كل واحد منهما من برتقالة في سلته ؟


خديجة :

.....



مجموع البرتقالات هو :

.....



أحمد :

.....

