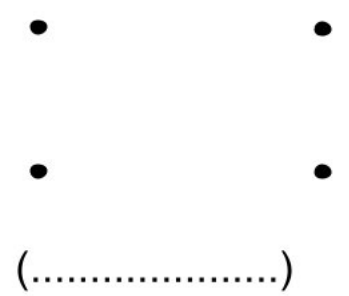
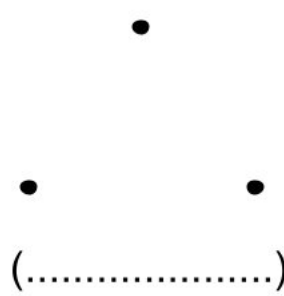
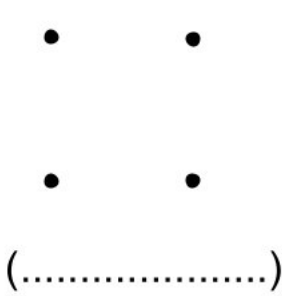


**التمرين الأول:** صلِّ بالمِسْطَرَّةِ النُّقْطَ لِلْحُصُولِ عَلَى أَشْكَالٍ وَسَمِّهَا.



**التمرين الثاني:** رتب الأعداد التالية من الأصغر إلى الأكبر.

40 ، 20 ، 80 ، 60 ، 70 ، 90 ، 10 ، 50 ، 30



10	.....	.....	.....	.....	.....	.....	.....	.....
----	-------	-------	-------	-------	-------	-------	-------	-------

**التمرين الثالث:** أحسب ما يلي:

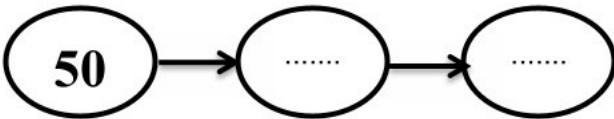
$$\begin{array}{r} 67 \\ + \\ 22 \\ \hline = \dots \end{array}$$

$$\begin{array}{r} 34 \\ + \\ 23 \\ \hline = \dots \end{array}$$

$$\begin{array}{r} 45 \\ + \\ 34 \\ \hline = \dots \end{array}$$

$$\begin{array}{r} 48 \\ + \\ 21 \\ \hline = \dots \end{array}$$

**التمرين الرابع:** أكمل كتابة الأعداد المتتالية



**التمرين الخامس:** أفكّك و أركب

$$\begin{aligned} 35+52 &= \dots + \dots + \dots + \dots \\ &= \dots + \dots \\ &= \dots \end{aligned}$$

$$\begin{aligned} 46+23 &= \dots + \dots + \dots + \dots \\ &= \dots + \dots \\ &= \dots \end{aligned}$$