
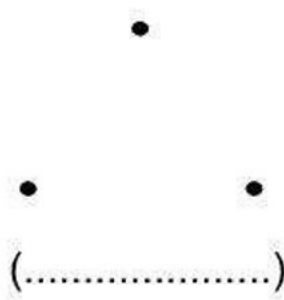
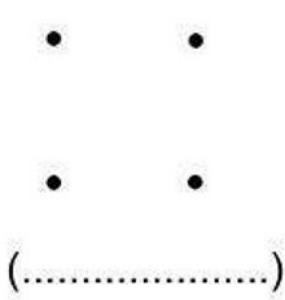


التمرين الأول: صل بالمسطرة النقط للحصول على أشكال وسمها.



التمرين الثاني: رتب الأعداد التالية من الأصغر إلى الأكبر.

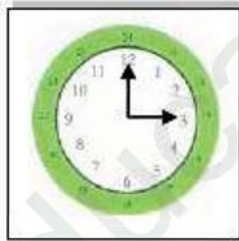
26 ، 31 ، 16 ، 44 ، 53 ، 62 ، 70 ، 80



10
----	-------	-------	-------	-------	-------	-------	-------	-------

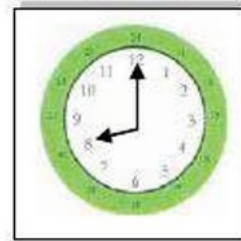
التمرين الثالث: أكتب حسب التوقيت المناسب:

مساءً



.....

صباحاً



.....

الوضعية الإدماجية: كان عند أحمد 45 كرتية حمراء وأعطاه أخوه علاء 31 كرتية زرقاء .

- ما هو عدد الكرتيات التي عند أحمد الآن؟

الأجوبة

الحل

العمليات

..... =	
عدد الكرتيات هو كرتية =