

اختبار 1 للفصل الثاني في مادة الرياضيات

**التمرين الأول: ( ن )**

-أكتب عن اليسار العدد الذي يسبق و عن اليمين العدد الذي يلي :

. 17 .

. 9 .

. 19 .

. 11 .

. 20 .

. 14 .

**التمرين الثاني: ( . ن )**

-أكتب العبارة الصحيحة مكان النقط : ( أكبر من - أصغر من - يساوي )

1 ..... 1 ، 4..... ، 7.....

1 ..... 1 ، ..... 1 ، ..... 1

..... 1 ، 1 ..... 1 ، .....

**التمرين الثالث: ( ن )**

أصل كل عدد بكتابته الجمعية .

6 + 6

4 + 4

19 + 1

8 + 8

6 + 4

5 + 5

8

12

20

16

10

7 + 1

10 + 2

10 + 10


15 + 1

7 + 3


8 + 2

**التمرين الرابع: ( 1. ن )**

-أجمع بالعشرات و أكمل الجدول .



العشرات	الوحدات
.	.



العشرات	لوحدهات
.	.

تصحيح اختبار 1 للفصل الثاني في مادة الرياضيات

التمرين الأول: ( ن )

- أكتب عن اليسار العدد الذي يسبق و عن اليمين العدد الذي يلي :

16 17 18

8 9 10

18 19 20

10 11 12

19 20 21

13 14 15

التمرين الثاني: ( . ن )

- أكتب العبارة الصحيحة مكان النقط : ( أكبر من - أصغر من - يساوي )

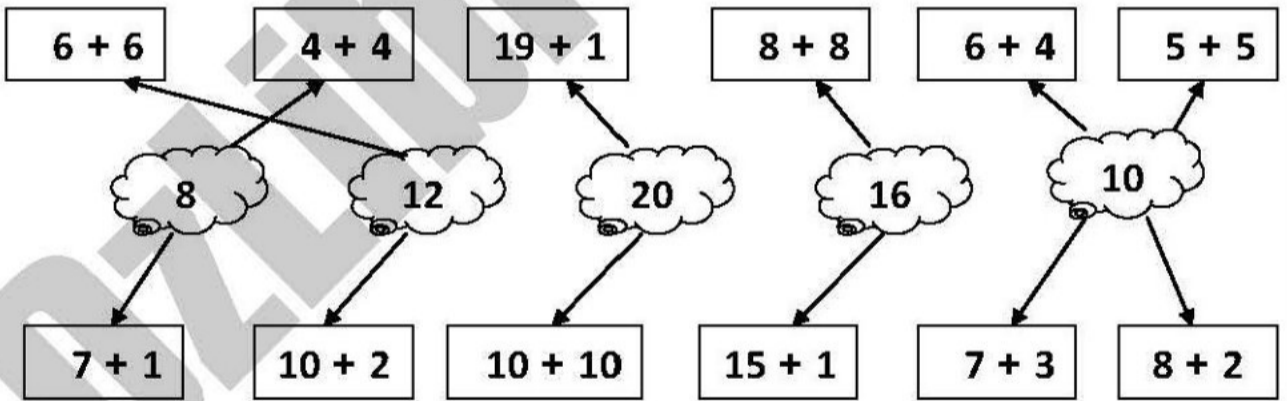
أصغر من 7 ، أكبر من 4 ، 1 يساوي 1

1 أكبر من ، 1 أكبر من ، 1 يساوي 1

أكبر من ، 1 يساوي 1 ، 1 أصغر من

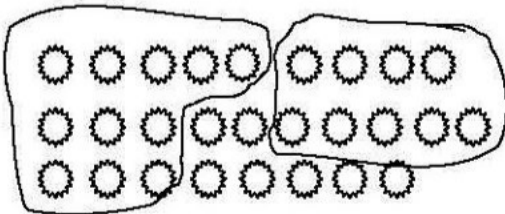
التمرين الثالث: ( ن )

أصل كل عدد بكتابته الجمعية .

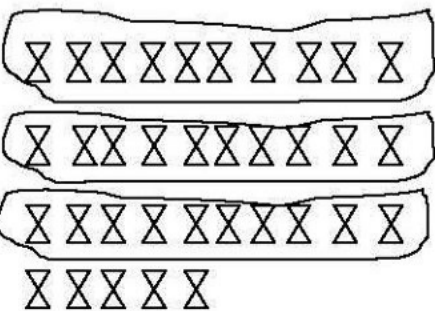


التمرين الرابع: ( 1. ن )

- أجمع بالعشرات و أكمل الجدول .



العشرات	الوحدات
	7



العشرات	لوحدهات