

التمرين 1: اكتب العبارة (أصغر من - أكبر من - يساوي) في المكان المناسب:

$$31 \dots\dots\dots 22$$

$$10+10+10 \dots\dots\dots 30$$

$$8 + 6 \dots\dots\dots 27$$

$$20 \dots\dots\dots 10+10$$

التمرين 2: أكمل الحساب:

$$19 + 1 = \dots$$

$$30 - 1 = \dots$$

$$10 - 1 = \dots$$

$$39 + 1 = \dots$$

التمرين 3: اربط بين البطاقات التي تمثل نفس العدد:

60

52

28

41

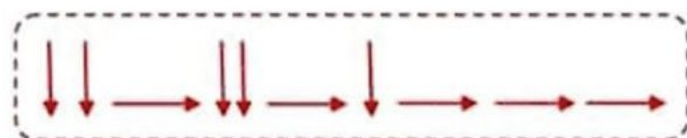

واحد و أربعون

ستون

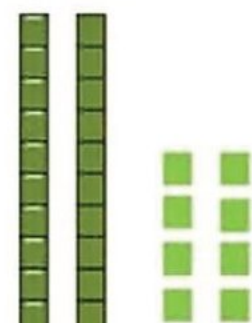
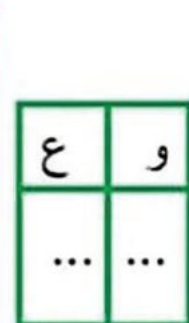
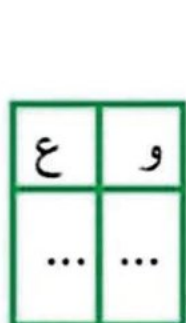
20+20+10+2

30 - 2

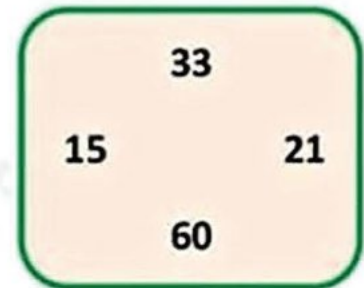
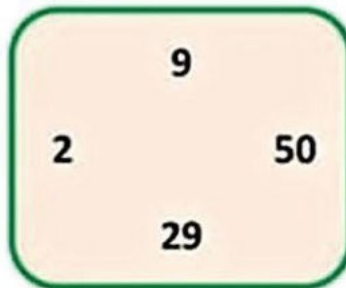
التمرين 4: ارسم المسلك الذي سيتبعه الفأر ليصل إلى الجبن:



التمرين 5: أحسب ثم اكتب في جدول الوحدات والعشرات:



التمرين 1: أحط على أكبر عدد و اشطب على أصغر عدد في كل مجموعة:

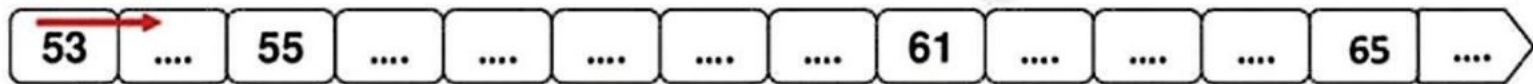


التمرين 2: أحسب كما في المثال: $16 + 3 = 16 + 1 + 2 = 17 + 2 = 19$

$$25 + 6 = .. + .. + .. = .. + .. = ..$$

$$34 + 8 = .. + .. + .. = .. + .. = ..$$

التمرين 3: أكمل الشريط العددي:



التمرين 4: لاحظ ثمن الأدوات المدرسية، ثم سجل النتائج في الجدول:

الأدوات المدرسية	الثمن



التمرين 5:

عند آلاء 10 كرات زادت أختها 8 كرات .
- ما هو عدد كل الكرات؟

$$10 - 8 = 2$$

$$10 + 8 = 18$$

1- لَوْنُ الإجابة الصحيحة.

2- عدد كل الكرات هو..... كرات.