



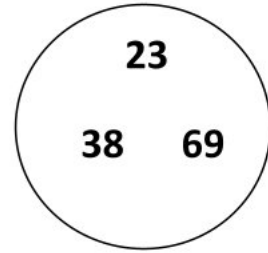
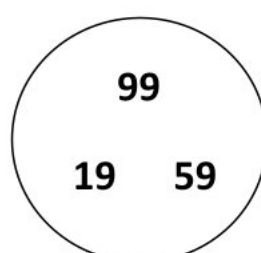
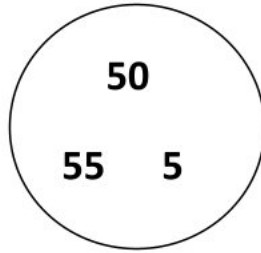
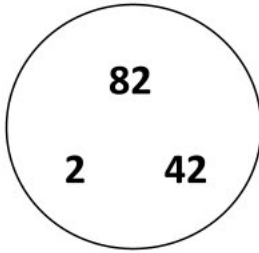
جوان 2021

المستوى: الثالث ابتدائي (1AP)

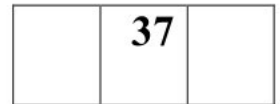

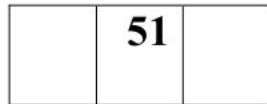
اختبار الفصل الثاني في الرياضيات

اللقب: الاسم: القسم:


التمرين الأول: أحيط أصغر عدد في كل مجموعة.



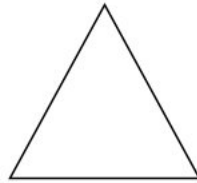
التمرين الثاني: أحضر بين عشرين متتاليتين.



التمرين الثالث: أكتب اسم كل شكل.



.....

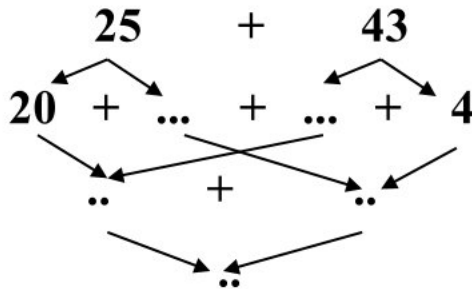


.....



.....

التمرين الرابع: أنجز العمليات التالية.



$$\begin{array}{r} 73 \\ + 26 \\ \hline = . . \end{array} \quad \begin{array}{r} 70 \\ + 18 \\ \hline = . . \end{array}$$

الوضعية الإدماجية:



إشترى أمين مِقلَمَةً ثَمَنُهَا 65 دِينَارًا، و كِتَابًا ثَمَنُهُ 23 دِينَارًا.

23 دينارًا

65 دينارًا

- كَمْ دَفَعَ أَمِينُ لِلْبَائِعِ؟

الأجوبة

الحل

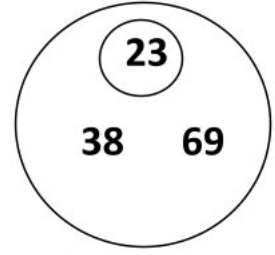
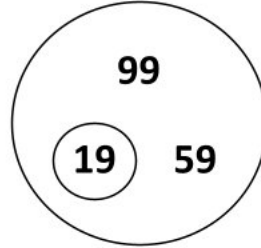
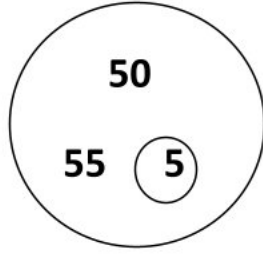
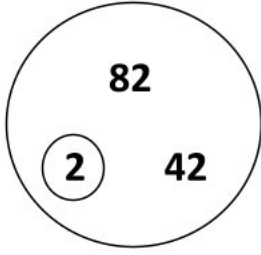
العمليات

.....
دَفَعَ أَمِينُ لِلْبَائِعِ: دينارًا.

بالتوفيق.

التصحيح النموذجي:

التمرين الأول: أَحِيطْ أَصْغَرَ عَدَدٍ فِي كُلِّ مَجْمُوعَةٍ.



التمرين الثاني: أَحْصُرْ بَيْنَ عَشْرَتَيْنِ مُتتَالِيَتَيْنِ.


10	15	20
----	----	----

50	51	60
----	----	----

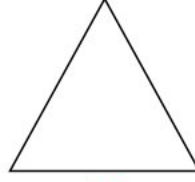
80	89	90
----	----	----

30	37	40
----	----	----

التمرين الثالث: أَكْتُبْ إِسْمَ كُلِّ شَكْلِ.



مربع

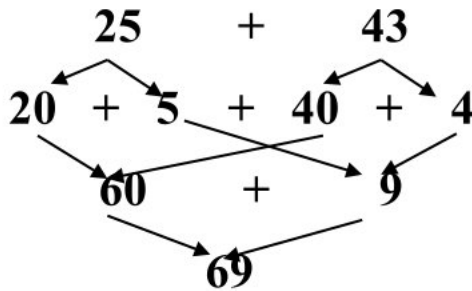


مثلث



مستطيل

التمرين الرابع: أَنْجِزِ الْعَمَلِيَّاتِ التَّالِيَةَ.



$$\begin{array}{r} 73 \\ + 26 \\ \hline = 99 \end{array} \quad \begin{array}{r} 70 \\ + 18 \\ \hline = 88 \end{array}$$

الوضعية الإدماجية:



23 ديناراً



65 ديناراً

إشترى أمين مقلّمة ثمنها 65 ديناراً، و كتاباً ثمنه 23 ديناراً.

- كم دفع أمين للبائع؟

الأجوبة

الحل

العمليات

$$65 + 23 = 88$$

دَفَعَ أَمِينٌ لِلْبَائِعِ: 88 ديناراً.

بالتوفيق.

$$\begin{array}{r} 23 \\ +65 \\ \hline = 88 \end{array}$$