

أحسب العمليات التالية بدقة

الوضعية 1

$22 + 10 = ..$

$12 + 16 = ..$

$21 + 15 = ..$

$13 + 4 = ..$

$32 + 5 = ..$

$23 + 6 = ..$

$36 - 16 = ..$

$28 - 23 = ..$


$37 - 26 = ..$

$18 - 3 = ..$

$26 - 7 = ..$



$38 - 2 = ..$


لون الموزات التي في استقامية واحدة بعد التحقق بمسطرتك




أكتب أسعار الأدوات في الجدول

الوضعية 2

الأسعار	
	..... دنانير
	..... دنانير
	..... دنانير
	..... دنانير



أكتب العدد الممثل بقطع الوحدات و اعمدة العشرات



فك الاعداد التالية

الوضعية 3

$22 = ... + ... + ...$

$36 = ... + ... + ... + ...$

$22 = ... + ...$

$36 = ... + ...$

أكمل الشريط العددي

الوضعية 4

26

....

....

....

....

....

....

....

....

....

....

....

....

....

....

....

40



الوضعية الادماجية

في حصالة مريم 20 دينارًا زادها أبوها 25 دينارًا .

كم أصبح عند مريم ؟

العملية : ... = ... + ...

أصبح عند مريم ..... دينارًا