

التمرين الأول : أكتب المَعْلُومَاتِ الْآتِيَةَ فِي الْجَدُولِ :

الثَّمَنُ	الأَدَوَاتُ
	
	
	
	

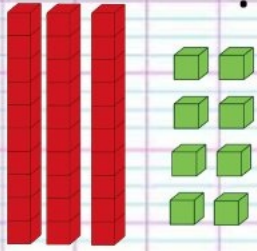
ثَمَنُ عُلْبَةِ الْأَلْوَانِ 90 دِينَارًا

ثَمَنُ الْغِرَاءِ 50 دِينَارًا


ثَمَنُ الْمِبْرَاةِ 35 دِينَارًا

ثَمَنُ قَلَمِ الرِّصَاصِ 25 دِينَارًا

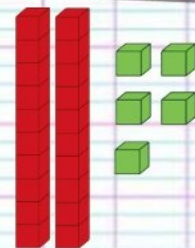
التمرين الثاني : أكتب العَدَدَ بِاسْتِعْمَالِ الْوَحَدَاتِ وَالْعَشْرَاتِ :



وحدات	عشرات
.....
.....	



وحدات	عشرات
.....
.....	



وحدات	عشرات
.....
.....	

التمرين الثالث : ألاحظ ثم أكمل مُتتَالِيَةَ الْأَعْدَادِ التَّالِيَةِ :

24

26

....

....

....

....

....

38

التمرين الرابع : فكك الأَعْدَادَ التَّالِيَةَ :

$$27 = \dots + \dots + \dots$$

$$32 = \dots + \dots + \dots + \dots$$

$$34 = \dots + \dots + \dots + \dots$$

التمرين الخامس : هَاتِ نِصْفَ وَضِعْفَ الْأَعْدَادِ التَّالِيَةِ :

العدد 8 ← نصفه :, ضعفه :

العدد 6 ← نصفه :, ضعفه :

الوضعية

لدى فاطمة 30 وَرْدَةً وَأَعْطَتْ لِصَدِيقَتِهَا 6 وَرُودٍ فِي عِيدِ مِيلَادِهَا.

كَمْ وَرْدَةً بَقِيَتْ لَدَى فَاطِمَةَ ؟



العلامة



اختبار



موضوع

