



ماي 2023

المستوى: الأولى ابتدائي

فرض الفصل الثالث في الرياضيات (1م)

الاسم : اللقب : القسم : أولى.....

التمرين 01 :

أ/- أكمل كتابة الأعداد بإضافة 10 في كل مرة ثم أكتبها بالحروف .

الكتابة بالأعداد	20
الكتابة بالحروف	عشرون

ب/- أرتب الأعداد من الأكبر إلى الأصغر.

8 - 69 - 15 - 43 - 50 - 34

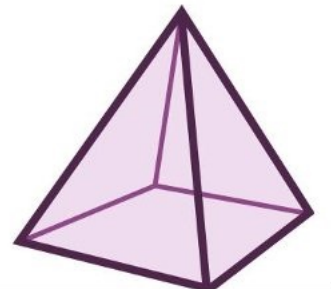
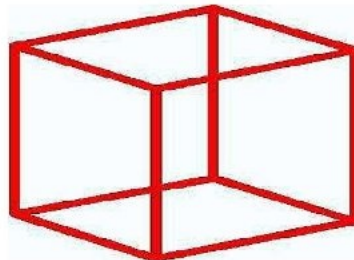
→/...../...../...../...../.....

التمرين 02 : أكمل بإحدى العبارات (أصغر من ، أكبر من ، يساوي) .

8.....15

10+10+10+10+3.....43

20+30+10+5.....60

التمرين 03 : أكتب اسم كل مجسم داخل البطاقة .

التمرين 04 : أَحْسَبُ مَا يَلِي.

$20-3 = \dots\dots\dots$

$50+4 = \dots\dots\dots$

$10 -6= \dots\dots\dots$

$18+6 = \dots\dots\dots$

الوضعية الإدماجية :

اشْتَرَى عِصَامٌ مِنْ مَحَلِّ بَيْعِ الْأَدْوَاتِ الْمَدْرَسِيَّةِ كُرَّاسَاتٍ بِ 45 دِينَارًا وَ قَلَمًا بِ 20 دِينَارًا .

مَا هُوَ ثَمَنُ الْكُرَّاسِ وَالْقَلَمِ مَعًا ؟

$\dots\dots\dots = \dots\dots\dots$

ثَمَنُ الْكُرَّاسِ وَالْقَلَمِ مَعًا دِينَارًا .

بالتوفيق.

التصحيح النموذجي

التمرين 01 :

أ/- أكمِلْ كِتَابَةَ الأَعْدَادِ بِإِضَافَةِ 10 فِي كُلِّ مَرَّةٍ ثُمَّ أَكْتُبْهَا بِالْحُرُوفِ .

الكتابة بالأعداد	20	30	40	50	60	70	80
الكتابة بالحروف	عِشْرُونَ	ثَلَاثُونَ	أَرْبَعُونَ	خَمْسُونَ	سِتُونَ	سَبْعُونَ	ثَمَانُونَ

ب/- أرتب الأعداد من الأكبر إلى الأصغر.

8 - 69 - 15 - 43 - 50 - 34

→

69/50 / 43/34/15/8

التمرين 02 : أكمِلْ بِإِخْدَى العِبَارَاتِ (أَصْغَرُ مِنْ ، أَكْبَرُ مِنْ ، يُسَاوِي) .

15 أكبر من 8

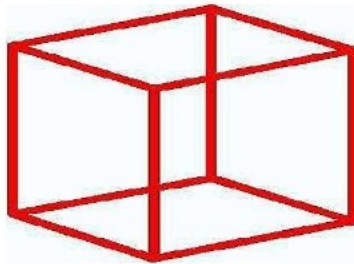
43 يساوي $10+10+10+10+3$

60 أصغر من $20+30+10+5$

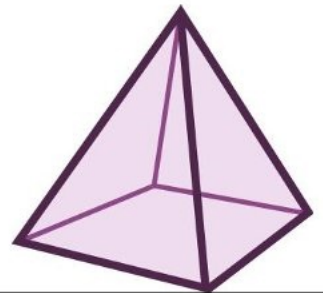
التمرين 03 : أَكْتُبْ اسْمَ كُلِّ مُجَسِّمٍ دَاخِلَ البِطَاقَةِ .



أَسْطُوَانَةٌ



مَكْعَبٌ



هَرَمٌ

التمرين 04 : أَحْسِبْ مَا يَلِي .

$$20-3 = 17$$

$$50+4 = 54$$

$$10 - 6 = 4$$

$$18+6 = 24$$

الوضعية الإدماجية :

اشترى عصام من محلّ بيع الأدوات المدرسيّة كُرّاسات بـ 45 ديناراً و قلمًا بـ 20 ديناراً .

مَا هُوَ ثَمَنُ الْكُرَّاسِ وَالْقَلَمِ مَعًا ؟

$$45 + 20 = 65$$

ثَمَنُ الْكُرَّاسِ وَالْقَلَمِ مَعًا 65 ديناراً .