

ابتدائية الشيخ حاج مسعود سعيد - العطف -

التقويم الأول في الرياضيات

قسم السنة الأولى

الإسم واللقب:

التمرين الأول: أكتب الأعداد المُمثلة بالأعمدة والوحدات:



ع	و
.	.



ع	و
.	.



ع	و
.	.


التمرين الثاني: أكتب الأعداد بالأرقام أو بالحروف:

..... : 20

..... : خَمْسَةٌ وِ أَرْبَعُونَ

..... : 7

..... : ثَلَاثُونَ



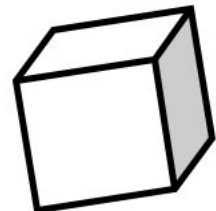
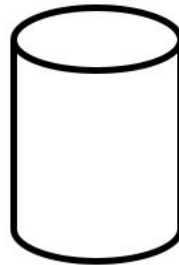
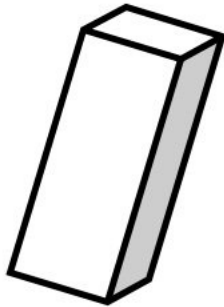
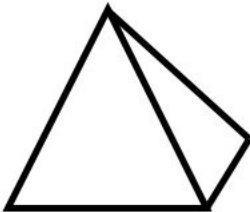
التمرين الثالث: أكمل العمليات الحسابية:



$$\begin{array}{|c|c|} \hline \begin{array}{|c|c|} \hline \bullet\bullet \\ \hline \bullet\bullet \\ \hline \end{array} & \begin{array}{|c|c|} \hline \bullet\bullet \\ \hline \bullet\bullet \\ \hline \end{array} \\ \hline \dots + \dots = \dots \\ \hline \end{array}$$

$$\begin{array}{|c|c|} \hline \begin{array}{|c|} \hline \bullet \\ \hline \bullet \\ \hline \end{array} & \begin{array}{|c|c|} \hline \bullet\bullet \\ \hline \bullet\bullet \\ \hline \end{array} \\ \hline \dots + \dots = \dots \\ \hline \end{array}$$

التمرين الرابع: أربط كل مُجسّم باسمه:



هَرَم

أَسْطَوَانَةٌ

مُكْعَب

بَلَاطٌ قَائِمٌ