



اختبار الفصل الثالث في الرياضيات

(1) رتّب الأعداد التّالِيّة تصاعديًا (من الأصغر إلى الأكبر) :

41 - 24 - 39 - 8 - 82 - 16

. - - - -

(2) لاحظ الجدول جيّدًا ، ثمّ أجب عن الأسئلة المُقابِلَة له :

القِسْم	الدُّكُورُ	الإِنَاثُ
السَّنَة الأُولَى	18	16
السَّنَة الثَّانِيَة	14	13
السَّنَة الثَّالِثَة	19	12
السَّنَة الرَّابِعَة	15	15
السَّنَة الخَامِسَة	13	11


عَدَدُ الدُّكُورِ فِي السَّنَةِ الأُولَى تَلْمِيذًا .

عَدَدُ الإِنَاثِ فِي السَّنَةِ الخَامِسَة تَلْمِيذَةً .


قِسْمُ السَّنَةِ فِيهِ أَكْبَرُ عَدَدٍ مِنَ الدُّكُورِ .

الدُّكُورُ وَ الإِنَاثُ فِي قِسْمِ السَّنَةِ مُتَسَاوِيَانِ .

* أرْضُم عَقْرَبِي السَّاعَةِ :

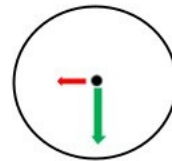


22 : 00

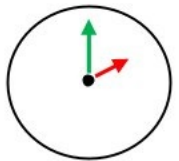


07 : 30

(3) * اُكْتُبِ الوَقْتَ بِالْأَرْقَامِ :

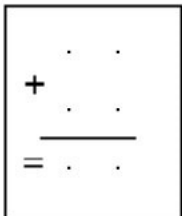



. . . : . . .



. . . : . . .

(4) لَوِّنِ المُسْتَطِيَلَاتِ بِالْأَخْضَرِ وَ المُرَبَّعَاتِ بِالْأَحْمَرِ :





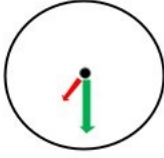
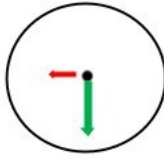

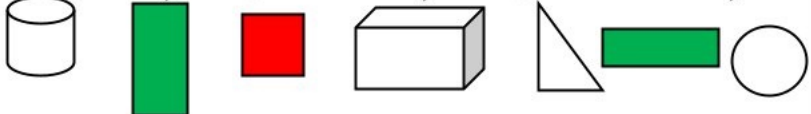

. . . + . . . = . . .

عَدَدُ كُلِّ القُرَيْصَاتِ هُوَ . . . قُرَيْصَةٌ .

(5) فِي العُلبَةِ 12 قُرَيْصَةً زَرْقَاءَ وَ 34 قُرَيْصَةً خَضْرَاءَ .

مَا هُوَ عَدَدُ كُلِّ القُرَيْصَاتِ ؟

. الإجابة النموذجية وسلم التنقيط لامتحان الفصل الثالث في الرياضيات 2023 / 2024 .

العلامة		عناصر الإجابة	محاور الموضوع																		
المجموع	مجزأة																				
2	2	 <p>رَتِّبِ الأَعْدَادَ التَّالِيَةَ تَصَاعُدِيًّا (مِنْ الأَصْغَرِ إِلَى الأَكْبَرِ) :</p> <p>41 - 24 - 39 - 8 - 82 - 16</p> <p>8 - 16 - 24 - 39 - 41 - 82</p>	التمرين الأول																		
2	4×0.5	<p>لَا حِظَّ الجَدْوَلِ جَيِّدًا ، ثُمَّ أَجِبْ عَنِ الأَسْئَلَةِ المُقَابِلَةِ لَهُ :</p> <p>عَدَدُ الذُّكُورِ فِي السَّنَةِ الأُولَى 18 تَلْمِيذًا .</p> <p>عَدَدُ الإِنَاثِ فِي السَّنَةِ الخَامِسَةِ 11 تَلْمِيذَةً .</p> <p>قِسْمُ السَّنَةِ الخَالِفَةِ فِيهِ أَكْبَرُ عَدَدٍ مِنَ الذُّكُورِ .</p> <p>الذُّكُورُ وَ الإِنَاثُ فِي قِسْمِ السَّنَةِ الرَّابِعَةِ مُتَسَاوِيَانِ .</p> <table border="1" data-bbox="965 611 1321 920"> <thead> <tr> <th>القِسْمُ</th> <th>الذُّكُورُ</th> <th>الإِنَاثُ</th> </tr> </thead> <tbody> <tr> <td>السَّنَةُ الأُولَى</td> <td>18</td> <td>16</td> </tr> <tr> <td>السَّنَةُ الثَّانِيَّةُ</td> <td>14</td> <td>13</td> </tr> <tr> <td>السَّنَةُ الثَّالِثَةُ</td> <td>19</td> <td>12</td> </tr> <tr> <td>السَّنَةُ الرَّابِعَةُ</td> <td>15</td> <td>15</td> </tr> <tr> <td>السَّنَةُ الخَامِسَةُ</td> <td>13</td> <td>10</td> </tr> </tbody> </table>	القِسْمُ	الذُّكُورُ	الإِنَاثُ	السَّنَةُ الأُولَى	18	16	السَّنَةُ الثَّانِيَّةُ	14	13	السَّنَةُ الثَّالِثَةُ	19	12	السَّنَةُ الرَّابِعَةُ	15	15	السَّنَةُ الخَامِسَةُ	13	10	التمرين الثاني
القِسْمُ	الذُّكُورُ	الإِنَاثُ																			
السَّنَةُ الأُولَى	18	16																			
السَّنَةُ الثَّانِيَّةُ	14	13																			
السَّنَةُ الثَّالِثَةُ	19	12																			
السَّنَةُ الرَّابِعَةُ	15	15																			
السَّنَةُ الخَامِسَةُ	13	10																			
2	4×0.5	<p>(3) * أَكْتُبِ الوَقْتَ بِالأَرْقَامِ :</p> <p>* أَرَسِّمُ عَقْرَبِي السَّاعَةِ :</p> <div style="display: flex; justify-content: space-around; align-items: center;"> <div style="text-align: center;">  <p>22 : 00</p> </div> <div style="text-align: center;">  <p>07 : 30</p> </div> <div style="text-align: center;">  <p>09 : 30</p> </div> <div style="text-align: center;">  <p>02 : 00</p> </div> </div> <p>أو 14:00</p>	التمرين الثالث																		
1.5	3×0.5	<p>(4) لَوِّنِ المُسْتَطِيلَاتِ بِالأَخْضَرِ وَ المُرَبَّعَاتِ بِالأَحْمَرِ :</p> 	التمرين الرابع																		
2.5	2.5	<p>$12 + 34 = 46$</p> <p>عَدَدُ كُلِّ القُرَيْصَاتِ هُوَ 46 قُرَيْصَةً .</p> <p>كتابة العملية الأفقية 0.5 ن</p> <p>كتابة العملية العمودية 0.5 ن ، حل العملية العمودية 0.5 ن</p> <p>الجواب 1 ن</p> 	التمرين الخامس																		