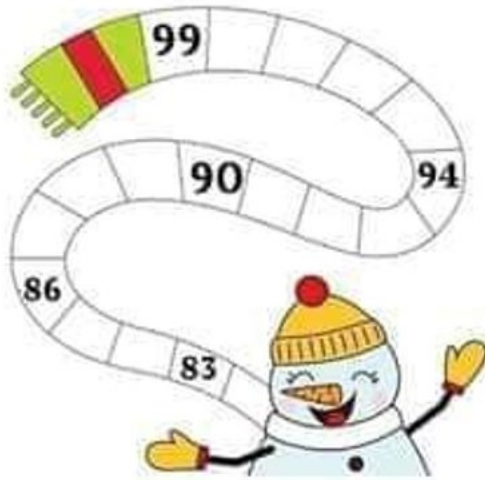


## تقويم الفصل الثالث في مادة الرياضيات (ميدان الأعداد والحساب)

### التمرين 01:

أكمل الشريط العددي:



اكتب بالأرقام أو بالحروف الأعداد الآتية:

.....	43
.....	10
سبعة وستون	.....
خمسة عشر	.....

### التمرين 02:

فكك الأعداد حسب المثال:

$$67 = 60 + 7$$

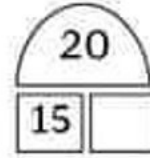
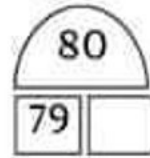
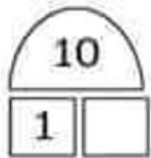
$$85 = \dots + \dots$$

$$19 = \dots + \dots$$

$$91 = \dots + \dots$$

### التمرين 03:

اكتب المتبقي إلى العشرة المئوية:



### الوضعية الإدماجية:

تملك أميمة مبلغًا قدره 67 دينارًا، اشترت بالونًا بـ 25 دينارًا.  
ما هو المبلغ المتبقي عند أميمة؟

$$\dots - \dots = \dots$$

المبلغ المتبقي عند أميمة هو ..... دينارًا

## تقويم الفصل الثالث في مادة الرياضيات (ميدان المقادير والقياس)

### التمرين 01:

أكمل كتابة الساعة بالأعداد:

الساعة السادسة مساءً .....

الساعة السابعة صباحًا .....

الساعة الثالثة بعد الظهر .....

الساعة العاشرة مساءً .....

### التمرين 02:

اكتب التوقيت الذي تُشير إليه كل ساعة:

بعد الظهر



صباحًا



مساءً



### التمرين 03:

أرسم عقربي كل ساعة:



## تقويم الفصل الثالث في مادة الرياضيات (ميدان الفضاء والهندسة)

### التمرين 01:

سَمِّ الأَشْكَالَ الهَنْدَسِيَّةَ الآتِيَةَ:



### التمرين 02:

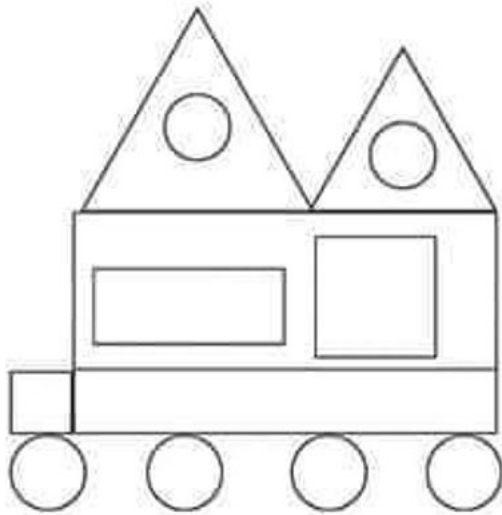
أَكْمِلِ الفَرَاغَاتِ بِالرَّقْمِ المُنَاسِبِ:

عَدَدُ الدَّوَائِرِ هُوَ: .....

عَدَدُ المُسْتَطِيلَاتِ هُوَ: .....

عَدَدُ المَثَلَّثَاتِ هُوَ: .....

عَدَدُ المُرَبَّعَاتِ هُوَ: .....



### التمرين 03:

تَعَرَّفْ عَلَى اسْمِ المَجْسَمِ واكْتُبْهُ:

🌻 أنا مُجَسَّمٌ لَيْسَ لِي أَوْجُهٌ وَلَا أَحْرُفٌ وَلَا رُؤُوسٌ وَأَتَدَخَّرُجُ ، مَنْ أَنَا؟  
.....

🌻 أنا مُجَسَّمٌ لِي 6 أَوْجُهٌ مُتَمَاثِلَةٌ ، 12 حَرْفًا و8 رُؤُوسًا ، مَنْ أَنَا؟  
.....

## تقويم الفصل الثالث في مادة الرياضيات (ميدان تنظيم معطيات)

### التمرين 01:

لاحظ الجدول ثم أكمل:

معدّل أمين هو: .....

معدّل ..... هو: 7

التلميذة التي تحصلت على أعلى معدّل هي: .....

معدّل رائد و مزيم هو: .....

المعدّل	اسم التلميذ
8	رائد
9	أميرة
7	سامي
8	مريم
6	أمين

### التمرين 02:

لاحظ أسعار الخضّر ثم اكتب كلّ سعرٍ في خانته المناسبة:

					
					بصل
					خس
					جزر
				95	طماطم
					بطاطا

95 دينارًا



62 دينارًا



70 دينارًا



35 دينارًا



57 دينارًا

