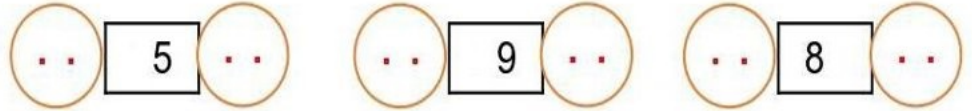


التمرين الأول : (2.5ن)

1/ اكتب الأعداد بالحروف أو الأرقام

تِسْعَةٌ وَ أَرْبَعُونَ.
.....	96
إِثْنَانٌ وَ سَبْعُونَ.
5 عشرات و 3 وحدات

أَحْصِرُ الْأَعْدَادَ التَّالِيَةَ بَيْنَ عَشْرَتَيْنِ مُتتَالِيَتَيْنِ :




التمرين الثاني: (1.5ن)

احسب العمليات التالية:

$27 + 52 = \dots\dots$	$54 + 3 = \dots\dots\dots$	$29 + 50 = \dots\dots\dots$
$\begin{array}{r} \cdot \quad \cdot \\ \cdot \quad \cdot \\ \hline \cdot \quad \cdot \end{array}$	$\begin{array}{r} \cdot \quad \cdot \\ \cdot \quad \cdot \\ \hline \cdot \quad \cdot \end{array}$	$\begin{array}{r} \cdot \quad \cdot \\ \cdot \quad \cdot \\ \hline \cdot \quad \cdot \end{array}$

التمرين الثالث: (2ن)

أكمل كتابة أو رسم الساعة



التمرين الرابع: (ن2)

لَا حِظَّ الْجَدْوَلِ ثُمَّ اكْمِلْ:

أَقْلَامُ التَّلْوِينِ	الْمَشْطَرَةُ	الْكُرَّاسُ	الْمِمْحَاةُ	الْمِقْلَمَةُ
78	81	57	34	95

هُوَ: دِينَارًا

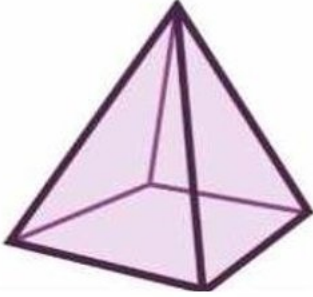
دِينَارًا

دِينَارًا

ثَمَنُ

ثَمَنُ

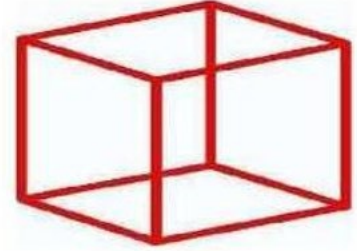
ثَمَنُ



.....



.....



.....

الوضعية الإدماجية (02 ن):



- تَمَلِكُ يَاسْمِينَ 78 دِينَارًا، إِشْتَرَتْ بِأُونَا بـ: 35 دِينَارًا.

- مَا هُوَ الْمَبْلَغُ الْمُتَبَقِي مَعَ يَاسْمِينَ؟

- لَوْنُ الْعَمَلِيَّةِ الصَّحِيحَةِ وَ أَحْسَبْ عَمُودِيًا.

$$78 - 35 = \dots$$

$$78 + 35 = \dots$$

• •

• •

= • •

الْمَبْلَغُ الْمُتَبَقِي مَعَ يَاسْمِينَ هُوَ: