














































اختبار الفصل الثاني في نشاط: الرياضيات

1- أكمل كِتَابَةَ رُتْبَةِ الْحَيَوَانِ فِي عَرَبَاتِ الْقِطَارِ: (1ن)




			
.....

2- أُسْطَبُ الْأَشْيَاءِ الزَّائِدَةِ: (2ن)

8										
6										
9										
5										

3- اسْتَعْمِلِ الْعُصَيَّةَ الصَّغِيرَةَ لِقِيَاسِ طُولِ الشَّرِيْطِ الْأَبْيَضِ وَالْأَسْوَدِ: (1ن)



طُولُ الشَّرِيْطِ الْأَبْيَضِ هُوَ: عُصَيَّاتٍ



طُولُ الشَّرِيْطِ الْأَسْوَدِ هُوَ: عُصَيَّاتٍ