

الاسم واللقب:.....
السنة الدراسية: 2019/2018

المادة: الرياضيات
المستوى: الأولى ابتدائي

إِخْتِبَارُ الْفَصْلِ الْأَوَّلِ

التمرين الأول:

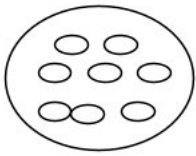
املأ الشريط العددي.

→

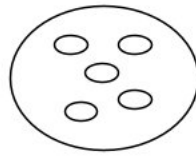
| | | | | | | | | | | |
|-------|---|-------|-------|-------|---|-------|-------|---|-------|-------|
| | 1 | | | | 5 | | | 8 | | |
|-------|---|-------|-------|-------|---|-------|-------|---|-------|-------|

التمرين الثاني:

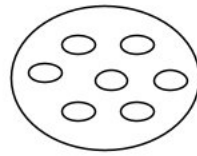
اربط بالعدد المناسب.



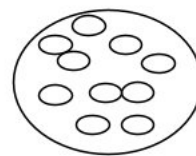
5



8



10



7

التمرين الثالث:

(أ) رتب الأعداد التالية من الأكبر إلى الأصغر

2 - 5 - 6 - 1 - 3 - 7

→

| | | | | | |
|-------|-------|-------|-------|-------|-------|
| | | | | | |
|-------|-------|-------|-------|-------|-------|

(ب) رتب الأعداد التالية من الأصغر إلى الأكبر

9 - 4 - 8 - 0 - 5 - 7

→

| | | | | | |
|-------|-------|-------|-------|-------|-------|
| | | | | | |
|-------|-------|-------|-------|-------|-------|

التمرين الرابع:

اكتب العدد الذي يسبق والعدد الذي يلي.

→

| | | | |
|-------|-----|-----|---|
| | ... | ... | 7 |
|-------|-----|-----|---|

→

| | | | |
|-------|-----|---|-----|
| | ... | 5 | ... |
|-------|-----|---|-----|

→

| | | | |
|-------|---|-----|-----|
| | 3 | ... | ... |
|-------|---|-----|-----|

التّمرين الخامس:

أُحسب

$3+4=.....$

$2+6=.....$

$4+6=.....$

$8+0=.....$

$3+2=.....$

$5+1=.....$



الاسم واللقب:.....
السنة الدراسية: 2019/2018

المادة: الرياضيات
المستوى: الأول ابتدائي

تَصْحِيحُ إِخْتِبَارِ الْفَصْلِ الْأَوَّلِ

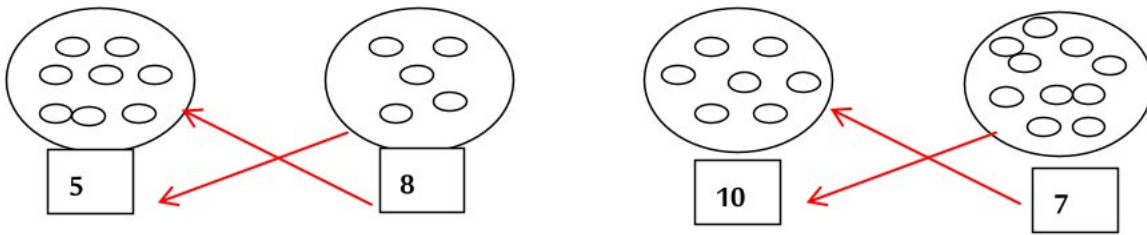
التَّمرين الأول:

املأ الشَّريطَ العَدَدِي.



التَّمرين الثاني:

ارْزِطْ بِالْعَدَدِ الْمُنَاسِبِ.



التَّمرين الثالث:

أ) رَتِّبِ الْأَعْدَادَ التَّالِيَةَ مِنَ الْأَكْبَرِ إِلَى الْأَصْغَرِ

2 - 5 - 6 - 1 - 3 - 7




ب) رَتِّبِ الْأَعْدَادَ التَّالِيَةَ مِنَ الْأَصْغَرِ إِلَى الْأَكْبَرِ

9 - 4 - 8 - 0 - 5 - 7



التَّمرين الرَّابِع:

اكَتُبِ الْعَدَدَ الَّذِي يَسْبِقُ وَالْعَدَدَ الَّذِي يَلِي.



التمرين الخامس:

أحسب

$3+4=7$

$2+6=8$

$4+6=10$

$8+0=8$

$3+2=5$

$5+1=6$

