

(1) أكمل كما في المثال: $34=10+10+10+4$

$$59= + + + + +$$

$$18= +$$

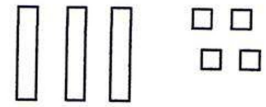
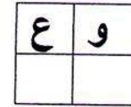
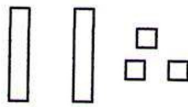
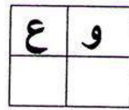
$$42= + + + +$$

(3) - أرتب الأعداد التالية من الأصغر إلى الأكبر في الشريط العددي:

71 - 68 - 27 - 49 - 33 - 55

..
----	----	----	----	----	----

(4) اكتب على الجدول:



.. عشرات و .. وحدات

.. عشرات و .. وحدات

(5) - قارن بين الأعداد التالية مستعملا < أو > :

100 . 99

32 . 82

64 . 54

17 . 27

49 . 43

57 . 75

(6) - الوضعية الإدماجية: (2 ن)

غرس رجل 24 شجيرة من التفاح و 7 شجيرة من الرمان في بستانه .

- ما هو عدد الشجيرات التي غرسها الرجل في بستانه ؟

الحل:

- عدد الشجيرات التي غرسها الرجل في بستانه هو .. شجيرة .

