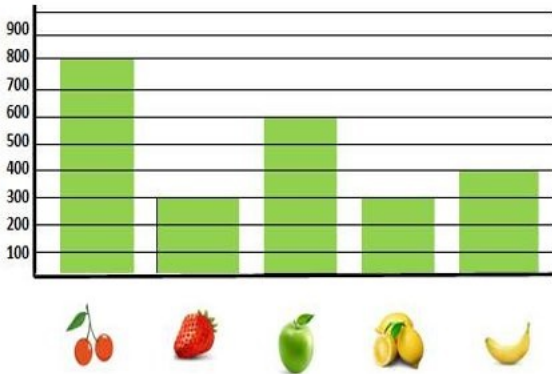


1: رافقت سلمى أبها إلى السوق لشراء بعض الفواكه .

ثمن الكيلوغرام الواحد بالدينار



◆ استعن بالبيان لتجيب :

- ثمن الكيلوغرام الواحد من الموز هو :
- الفاكهة الأعلى ثمنًا هي :
- الفاكهتان اللتان لهما نفس الثمن هما :

◆ ارسم عقرب الميزان في الإتجاه الصحيح .




2: في طريق العودة إلى المنزل ، اشترى الأب بوظة لسلمى ثمنها 45 ديناراً ، حيث دفع للبائع قطعة نقدية من فئة 100 دينار.

◆ احسب المبلغ الذي يعيده له البائع .

..... المبلغ المتبقي هو :

◆ أكمل رسم القطع النقدية حتى تشكل المبلغ المتبقي .



3: بعد ان تناولت سلمى غداءها ، أرادت أن تجرب لعبة في لوحها الإلكترونية . ضغطت على زر الألعاب فظهرت لها الصورة المقابلة .

◆ المطلوب من سلمى أن تقوم بتشفير الخانات لتعيين كل

مجسم على المرصوفة ، ساعدها في ذلك .

- المكعب :

- المخروط :

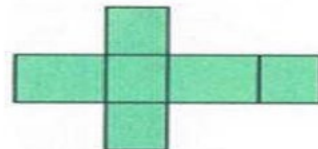
- الأسطوانة :

- الكرة :

◆ ارسم محور تناظر لهذا المنشور ، ثم حدّد مجسمه .


- مجسم هذا المنشور هو :

هـ						
د						
ج						
ب						
أ						
	1	2	3	4	5	6



4: بينما سلمى تمارس لعبتها المفضلة ، رأت على الأرض 4 أوراق نقدية من فئة 100 دينار ، و قطعتين من فئة 50 ديناراً ، فجمعتها و قدمتها لأمها .

◆ احسب المبلغ الإجمالي الذي وجدته سلمي .



..... المبلغ الإجمالي

◆ أكمل الحساب .

$$50 \times 10 = \dots\dots$$