

اختبار الفصل الأول في مادة الرياضيات

التمرين الأول: (01 ن) أكتب الأعداد بالحروف و الأرقام

..... 35

..... 19

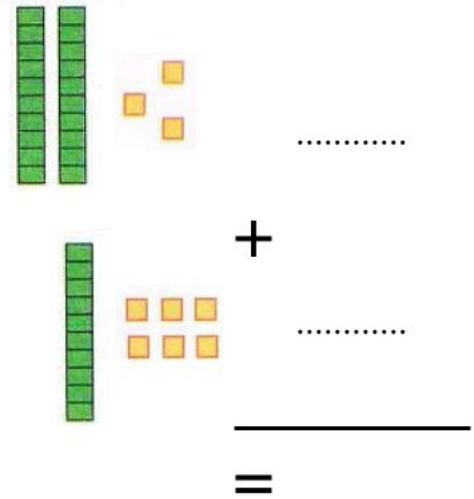
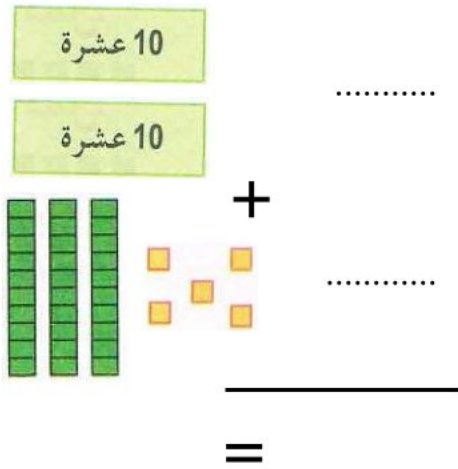
..... تسعة وستون

..... واحد وسبعون

التمرين الثاني: (01 ن) ضع إشارة < و > بين كل عددين

15 ... 51 ، 38 ... 42 ، 35 ... 39 ، 89 ... 99

التمرين الثالث: (1.5 ن) لاحظ واحسب الجمع



التمرين الرابع: (1.5 ن) رتب الأعداد ترتيبا تصاعديا

43 ، 69 ، 53 ، 15 ، 64 ، 99

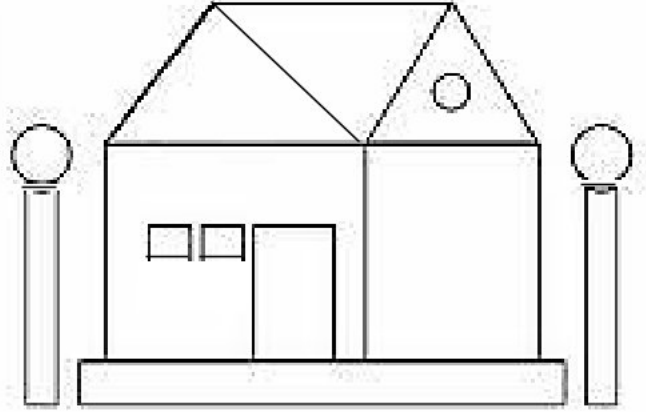
التمرين الخامس: (02 ن) أحصر العدد بين عشرين متتابعين :

.....	53
.....	86
.....	11
.....	62

التمرين السادس : (01 ن)

أحسب الأشكال و ضع عددها في الجدول

الدوائر	المستطيلات	المربعات	المثلثات



التمرين السادس : (02 ن)

غرس أمين 17 شجيرة في الأسبوع الأول و 12 شجيرة في الأسبوع الثاني

وبعد أسبوع ذبلت 15 شجيرة

1- أحسب عدد الشجيرات التي غرسها أمين ؟

2- أحسب عدد الشجيرات التي لم تذبل ؟

1- عدد الشجيرات التي غرسها أمين هي : شجيرة

.....

=

2- عدد الشجيرات التي لم تذبل هي : شجيرة

.....

=