

اختبار الفصل الثالث في مادة الرياضيات

1 أنجز العمليات التالية:

| | | | |
|---|---|---|---|
| $\begin{array}{r} 705 \\ 104 \\ \hline \end{array}$ | $\begin{array}{r} 978 \\ 876 \\ \hline \end{array}$ | $\begin{array}{r} 543 \\ 567 \\ \hline \end{array}$ | $\begin{array}{r} 970 \\ 359 \\ \hline \end{array}$ |
| = | = | = | = |

2 أحسب ما يلي:

| | | |
|----------------------|--------------------------|------------------------------|
| $10 \times 23 = .$ | $9 \times 10 = .$ | $3 \times 3 = . + . + .$ |
| $2 \times 5 = . + .$ | $6 \times 4 = . + . + .$ | $4 \times 3 = . + . + . + .$ |

3


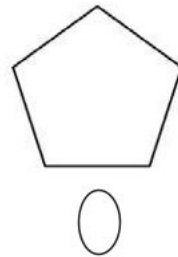
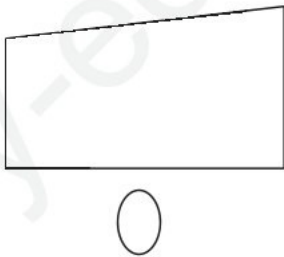
أكتب بالحروف أو بالأرقام:

← مئة و واحد

← 967

4 أرتب الأعداد تصاعديا: 875- 757 - 600 -857

5 أضع الإشارة () أسفل الرسم الذي يقبل محور تناظر:



الوضعية الإدماجية:

يملك محمد مبلغا ماليا، تصدق به على 5 فقراء فأعطى لكل فقير 20 دينارا.

كم كان عند محمد؟

| | | |
|----------------|------|-----------------|
| | الحل | |
| <u>الأجوبة</u> | | <u>العمليات</u> |
| | | |