

الجمهورية الجزائرية الديمقراطية الشعبية

وزارة التربية الوطنية

مؤسسة التربية و التعليم الخاصة **سليم**

ETABLISSEMENT PRIVE D'EDUCATION ET D'ENSEIGNEMENT SALIM

www.ets-salim.com 021 87 10 51 021 87 16 89 Hai Galloul - bordj el-bahri alger

رخصة فتح رقم 1088 بتاريخ 30 جانفي 011

تفصيلي- ابتدائي- متوسط - ثانوي

إعتماد رقم 67 بتاريخ 06 سبتمبر 2010

المستوى : الثانية ابتدائي [2AP] ديسمبر، 2018

اختبار الفصل الأول في مادة الرياضيات

الوضعية 1 : (2ن) اكتب الأعداد التالية بالحروف أو بالأرقام

- ❖ 99 - سبعة و خمسون
- ❖ 87 - واحد و تسعون
- ❖ 63 - سبعون
- ❖ 100 - أربعة و أربعون

الوضعية 2 : (2ن) أتمم إلى العشرة الموالية حسب المثال

21	7
30	

73
.....	

81
.....	

46
.....	

55
.....	





الوضعية 3 : (1.25ن) اكتب العدد المناسب

- ❖ 8 عشرات و 9 وحدات هو العدد
- ❖ 5 وحدات و 9 عشرات هو العدد
- ❖ 63 فيه عشرات و وحدات
- ❖ العدد الذي رقم وحداته 0 و رقم عشراته 7 هو

حي قعلول - برج البحري - الجزائر

Web site : www.ets-salim.com /021.87.16.89 : الفاكس : 021.87.10.51 : ☎

الوضعية 4 : (1ن) لاحظ الجدول ثم املأ الفراغ بما يناسب

	1	2	3	4
أ				
ب				
ج				
د				

- المنزل في الخانة

- في الخانة 2 ج

- الشجرة في الخانة

- في الخانة 4 د

الوضعية 5: (1.75) فكك الأعداد التالية

$$48 = 10 + \dots + \dots + \dots + \dots$$

$$77 = \dots + \dots + \dots + \dots + \dots + \dots + \dots + \dots$$

$$99 = \dots + \dots + \dots + \dots + \dots + \dots + \dots + \dots + \dots + \dots$$

الوضعية الإدماجية: (2ن)

كان لدى أحمد 98 دينارا ، وفي طريقه إلى المدرسة رأى طفلا فقيرا
رفقة أمه يطلب صدقة ، فأشفق عليه و أعطاه 52 دينارا .

ما هو المبلغ الذي تبقى لأحمد ؟

الحل

الأجوبة

العمليات

..... =

..... هو دينارا

حي فقول - برج البحري - الجزائر

Web site : www.ets-salim.com /021.87.16.89 : الفاكس : 021.87.10.51 : ☎

امتحان الفصل الأول في مادة الرياضيات

الوضعية 1 : (2ن) اكتب الأعداد التالية بالحروف أو بالأرقام

❖ 99 (تسعة و تسعون) . - سبعة و خمسون 57

❖ 87 (سبعة و ثمانون) - واحد و تسعون 91

❖ 63 (ثلاثة و ستون) - سبعون 70

❖ 100 (مئة) - أربعة و أربعون 44

الوضعية 2 : (2ن) أتمم إلى العشرة المئوية حسب المثال

21	7
30	

73	7
80	

81	9
90	

46	4
50	

55	5
60	

الوضعية 3 : (1.25ن) اكتب العدد المناسب





❖ 8 عشرات و 9 وحدات هو العدد 89

❖ 5 وحدات و 9 عشرات هو العدد 95

❖ 63 فيه 6 عشرات و 3 وحدات

❖ العدد الذي رقم وحداته 0 و رقم عشراته 7 هو 70

الوضعية 4 : (1ن) لاحظ الجدول ثم املأ الفراغ بما يناسب

	1	2	3	4
أ				
ب				
ج				
د				

- المنزل في الخانة 1 أ .
- المقص في الخانة 2 ج .
- الشجرة في الخانة 3 ب .
- النجمة في الخانة 4 د .

الوضعية 5: (1.75) فكك الأعداد التالية

$$48 = 10 + 10 + 10 + 10 + 8$$

$$77 = 10 + 10 + 10 + 10 + 10 + 10 + 10 + 7$$

$$99 = 10 + 10 + 10 + 10 + 10 + 10 + 10 + 10 + 10 + 9$$

الوضعية الإدماجية: (2ن)

كان لدى أحمد 98 دينارا ، وفي طريقه إلى المدرسة رأى طفلا فقيرا رفقة أمه يطلب صدقة ، فأشفق عليه و أعطاه 52 دينارا .

ما هو المبلغ الذي تبقى لأحمد ؟

الأجوبة	العمليات
$98 - 52 = 46$	$\begin{array}{r} - 98 \\ 52 \\ \hline 46 \end{array}$
المبلغ الذي تبقى لدى أحمد هو : 46 دينارا	