







الاسم واللقب : .....

الاختبار الثالث في مادة التربية العلمية

أكتب : صلب / سائل

1

		
.....	.....	.....
		
.....	.....	.....

أكمل الجدول بـ :

2

( ماء جافيل ، طباشير ، صابون ، قلم رصاص ، فرشاة أسنان ، أوراق )

مواد النظافة	مواد الكتابة
..... *	..... *
..... *	..... *
..... *	..... *

أكتب : صحيح / خطأ

3

- ..... \* تذوب الشكولاتة بالحرارة
- ..... \* الماء لا يتجمد داخل الثلاجة
- ..... \* السيارة مصنوعة من الحديد
- ..... \* آكل العجينة بعد استعمالها

أكمل الفراغ :

4

أنا تلميذ مجتهد و مطيع لوالدي ، أغسل ..... قبل الأكل ، وعند الانتهاء  
أنظف ..... بالفرشاة .

أستحم ..... في الأسبوع ، ولا أقرب من مواد ..... لأنها خطيرة .

تمنياتي لكم بالنجاح