

مديرية التربية لولاية الوادي

مدرسة

الموسم الدراسي: 2020-2021

المدة: ساعة ونصف

العلامة

وزارة التربية الوطنية

مقاطعة

السنة الثانية ابتدائي

إمتحان رقم 1 في نشاط الرياضيات

التمرين الأول: أنجز العمليات التالية عمودياً :

$$\begin{array}{r} 269 \\ - 148 \\ \hline = \dots\dots \end{array}$$

$$\begin{array}{r} 348 \\ + 206 \\ \hline = \dots\dots \end{array}$$

$$\begin{array}{r} 76 \\ \times 5 \\ \hline = \dots\dots \end{array}$$

$$\begin{array}{r} 176 \\ + 235 \\ \hline = \dots\dots \end{array}$$

$$\begin{array}{r} 45 \\ + 29 \\ \hline = \dots\dots \end{array}$$

التمرين الثاني: اكتب الأعداد بالحروف:

| | | | |
|-------|-----|-------|-----|
| | 985 | | 125 |
|-------|-----|-------|-----|

450 ، 250 ، 101 ، 980

2. أرتب الأعداد من الأصغر الى الأكبر:

| | | | | |
|---|-------|-------|-------|-------|
|  | | | | |
|---|-------|-------|-------|-------|

3. أكمل بالعدد المناسب :

• 1 يوم = ساعة

• 1 ساعة = دقيقة

• نصف ساعة = دقيقة

التمرين الثالث: اكتب التوقيت

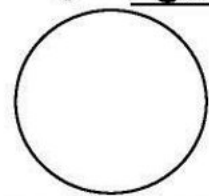

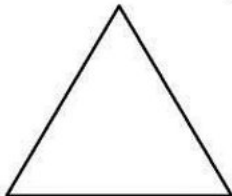


.....:..... مساءً

.....:..... صباحاً

.....:..... صباحاً

التمرين الرابع: أسي المضلعات التالية وألون الزوايا القائمة باللون الأحمر



.....

.....

.....

.....

الوضعية الإدماجية:

عند كريم 300 دج ، اشترى قِصَّةً بِ 120 دج ، و دَفَتَرًا لِلتَّلْوِينِ ثَمَنُهُ 75 دج .
- كَمْ سَيَدْفَعُ كَرِيمٌ لِلْبَائِعِ؟ وَكَمْ الْمَبْلُغُ الْمَتَبَقِي عِنْدَهُ؟

الأجوبة

الحل

التعليقات

.....
.....
.....
.....
.....
.....