

المادة: الرياضيات

الاسم واللقب:

المستوى: الثانية ابتدائي

التاريخ: 2021/2020

اختبار الفصل الأول

التمرين الأول:

أحسب عمودياً:

→ 332+165=	564+327 =	752-327=.....	973-685=.....
------------------	-----------------	---------------	---------------

التمرين الثاني:

1) فكك أو أكتب الأعداد التالية:

$$356 = \dots + \dots + \dots \quad / \quad \dots = 700 + 10 + 3$$

$$\dots = 200 + 0 + 5 \quad / \quad 593 = \dots + \dots + \dots$$

2) أحصر الأعداد بين عشرين متتاليتين

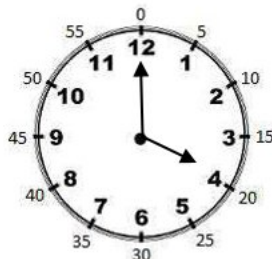
$$\dots < 326 < \dots / \dots < 531 < \dots$$

3) أحصر الأعداد بين مئتين متتاليتين:

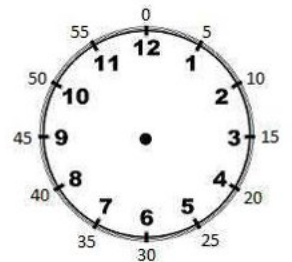
$$\dots < 356 < \dots / \dots < 476 < \dots$$

التمرين الثالث:

أرسم عقارب الساعة وأكتب التوقيت المناسب.



.. :..



22 :30

المادة: الرياضيات

الاسم واللقب:

المستوى: الثانية ابتدائي

التاريخ: 2021/2020

تصحيح اختبار الفصل الثاني

التمرين الأول:

أحسب عمودياً:

$$332+165= 497$$

$$\begin{array}{r} 322 \\ + 165 \\ \hline = 497 \end{array}$$

$$564+327 = 891$$

$$\begin{array}{r} 5^{1}64 \\ + 327 \\ \hline = 891 \end{array}$$

$$752-327=425$$

$$\begin{array}{r} 752 \\ - 327 \\ \hline = 425 \end{array}$$

$$973-685=288$$

$$\begin{array}{r} 9^{1}7^{1}3 \\ - 6^{1}85 \\ \hline = 288 \end{array}$$

التمرين الثاني:

(1) فكك أو أكتب الأعداد التالية:

$$356= 300+50+6 \quad / \quad 713=700+10+3$$

$$205=200+0+5 \quad / \quad 593=500+90+3$$

(2) أحصر الأعداد بين عشريتين متتاليتين

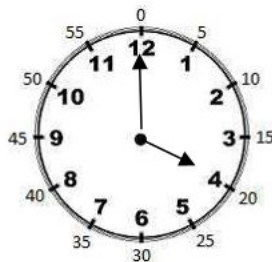
$$320 < 326 < 330 / 530 < 531 < 540$$

(3) أحصر الأعداد بين مئتين متتاليتين:

$$300 < 356 < 400 \quad / \quad 400 < 476 < 500$$

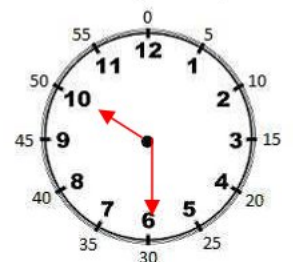
التمرين الثالث:

أرسم عقارب الساعة وأكتب التوقيت المناسب.



16 :00

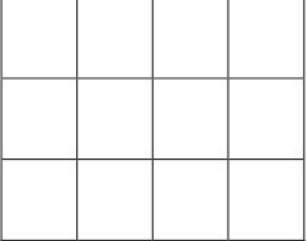
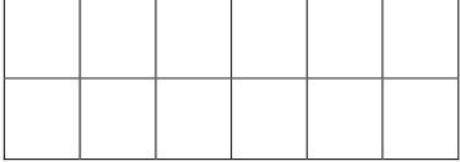
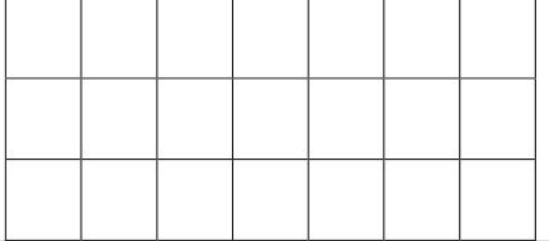
4 :00



22 :30

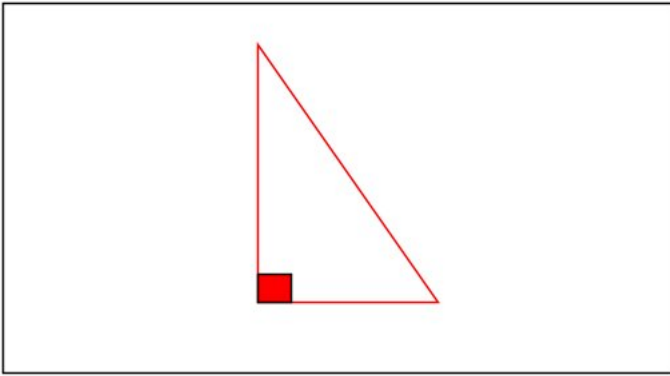
التمرين الرابع:

أحسب الجداءات باستعمال المرصوفة.

		
$3 \times 4 = 4 + 3 = 12$	$2 \times 6 = 6 + 2 = 18$	$7 \times 3 = 3 + 7 = 21$

التمرين الخامس:

أرسم مثلث قائم وأبرز الزاوية القائمة بالأحمر.



الوضعية الإدماجية:

تملك مدرستنا قسمين في السنة 2 ابتدائي في كل قسم 16 تلميذ.

ما هو عدد تلاميذ السنة 2 ابتدائي ؟

الجواب

الحل

العملية

.....

$$\begin{array}{r} 16 \\ + 13 \\ \hline = 32 \end{array}$$

عدد تلاميذ السنة 2 ابتدائي هو