



المستوى: الثانية ابتدائي (2AP) جوان 2021

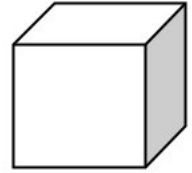
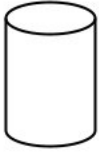
اختبار الفصل الثاني في مادة الرياضيات

اللقب: الاسم: القسم:

التمرين الأول: أنجز العمليات التالية (2ن)

$$\begin{array}{r} 32 \\ \times 3 \\ \hline = . . \end{array} \quad \begin{array}{r} 47 \\ - 29 \\ \hline = . . \end{array} \quad \begin{array}{r} 93 \\ - 39 \\ \hline = . . \end{array} \quad \begin{array}{r} 45 \\ + 37 \\ \hline = . . \end{array}$$

التمرين الثاني: أكتب اسم كل مجسم (2ن)



.....

التمرين الثالث: أرتب الأعداد تنازلياً (2ن)

538 - 309 - 512 - 478 - 927 - 234 - 678 - 495

.....

التمرين الرابع (2ن)

2- أحصر العدد بمائتين متتاليتين:

..... < 418 <

..... < 257 <

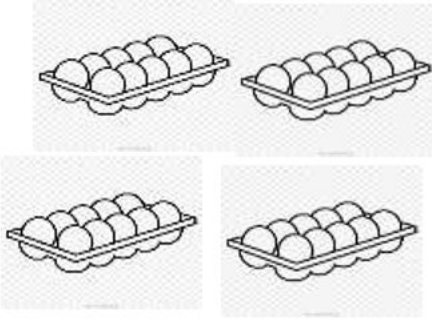
1- أحصر العدد بين عشرين متتاليتين:

..... < 684 <

..... < 339 <

الوضعية الإدماجية: (2ن)

في عيد الفطر اشترت الأم أربعة أطباق من البيض، في كل طبق 10 بيضة.



- كم بيضة اشترت الأم؟

استعملت الأم 15 بيضة.

- كم بيضة بقيت لها؟

الأجوبة

الحل

العمليات

..... =

اشترت الأم بيضة.

بقي لها : بيضة

.....
= ..



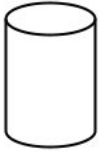
المستوى: الثانية ابتدائي (2AP) جوان 2021

تصحيح اختبار الفصل الثاني في مادة الرياضيات

التمرين الأول: أنجز العمليات التالية. (2ن)

$$\begin{array}{r} 32 \\ \times 3 \\ \hline = 96 \end{array} \quad \begin{array}{r} 47 \\ - 29 \\ \hline = 18 \end{array} \quad \begin{array}{r} 93 \\ - 39 \\ \hline = 54 \end{array} \quad \begin{array}{r} 45 \\ + 37 \\ \hline = 82 \end{array}$$

التمرين الثاني: أكتب اسم كل مجسم. (2ن)



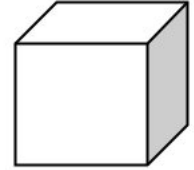
أسطوانة



بلاطة قائمة



هرم



مكعب

التمرين الثالث: أرتب الأعداد تنازلياً. (2ن)

538 - 309 - 512 - 478 - 927 - 234 - 678 - 495

927 - 678 - 538 - 512 - 495 - 478 - 309 - 234

التمرين الرابع (2ن)

2- أخصر الأعداد بمائتين متتاليتين:

$$400 < 418 < 500$$

$$200 < 257 < 300$$

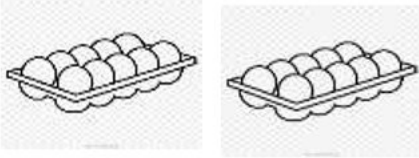
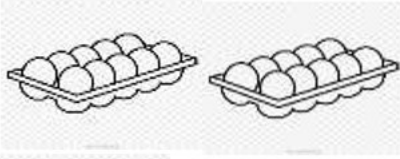
1- أخصر الأعداد بين عشرين متتاليتين:

$$680 < 684 < 690$$

$$330 < 339 < 340$$

الْوَضْعِيَّةُ الْاِدْمَاجِيَّةُ: (2ن)

فِي عِيدِ الْفِطْرِ اشْتَرَتْ الْأُمُّ 4 أَطْبَاقٍ مِنَ الْبَيْضِ، فِي كُلِّ طَبَقٍ 10 بَيْضَاتٍ.



- كَمْ بَيْضَةً اشْتَرَتْ الْأُمُّ؟

اسْتَعْمَلَتْ الْأُمُّ 15 بَيْضَةً.

- كَمْ بَيْضَةً بَقِيََتْ لَهَا؟

الْأَجْوِبَةُ

الْحَلُّ

الْعَمَلِيَّاتُ

$$10 \times 4 = 40$$

اشْتَرَتْ الْأُمُّ 40 بَيْضَةً.

$$40 - 15 = 25$$

بَقِيََتْ لَهَا : 25 بَيْضَةً

$$10$$

$$\times 4$$

$$= 40$$

$$40$$

$$- 15$$

$$= 25$$