

ابتدائية : بن شيخة مصطفى

اللقب: ..... الاسم: .....

المستوى: السنة الثانية ابتدائي

النقطة: 10/.....

السنة الدراسية: 2022/2021

## اختبار الفصل الثاني في مادة الرياضيات

❖ الوضعية الأولى : (أ) - أكْمِلِ الجَدْوَل : (02 نقاط)

العَدَدُ بِالْأَرْقَامِ	العَدَدُ بِالْحُرُوفِ	تَفْكِيكُ العَدَدِ
245	.....	.....+.....+.....
.....	مَائَةٌ وَسِتَّةٌ وَسَبْعُونَ	.....+.....+.....

(ب) قَارِنِ بَيْنَ الأَعْدَادِ التَّالِيَةِ:

182..... 105

274.....452

❖ الوضعية الثانية : أَنْجِزِ العَمَلِيَّاتِ التَّالِيَةَ : (02 نقاط)

$$\begin{array}{r} 378 \\ - 102 \\ \hline = . . . \end{array}$$

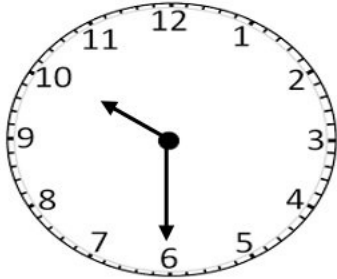
$$\begin{array}{r} 89 \\ - 61 \\ \hline = . . \end{array}$$

$$\begin{array}{r} 265 \\ + 416 \\ \hline = . . . \end{array}$$

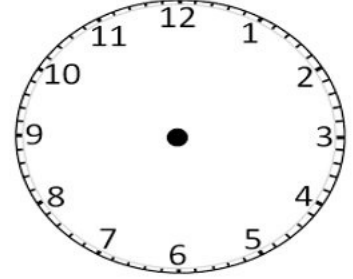
$$\begin{array}{r} 45 \\ + 23 \\ \hline = . . \end{array}$$

❖ الوضعية الثالثة: (1.5 نقاط)

1- ارْسُمْ عَقْرَبَ السَّاعَةِ المُنَاسِبِ وَأَكْتُبْ بِالْأَرْقَامِ:

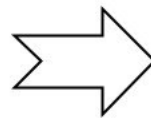


.....:..... صباحا



08:00 صباحا

2- أَحْسِبِ المَبْلَغَ :

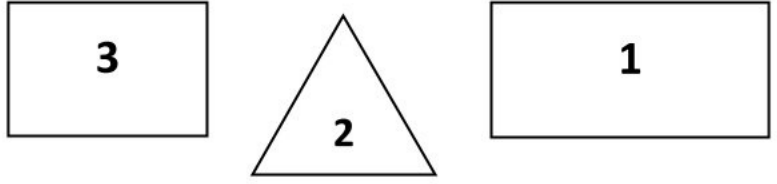


..... ديناراً

اقلب الصفحة

عَدَدُ الْأَضْلَاحِ	إِسْمُهُ	الشَّكْلُ
		1
		2
		3

❖ الوضعية الرابعة : أكْمِلْ مَلءَ الْجَدْوَلِ : (1.5ن)



❖ الوضعية الادماجية : (03 نقاط)

بِمُنَاسَبَةِ عِيدِ الْمَرْأَةِ، أَرَدْتَ شِرَاءَ بِلْطَاقَةِ تَهْنِئَةٍ لِوَالِدَتِكَ وَكَانَ ثَمَنُهَا: 77 دِينَارًا. عَلِمًا أَنَّكَ تَمْلِكُ 89 دِينَارًا .

- كَمْ يَبْقَى مَعَكَ بَعْدَ شِرَاءِ الْبِلْطَاقَةِ ؟

الأجوبة	الحل	العمليات
.....	-	
بَقِيَ مَعِيَ بَعْدَ شِرَاءِ الْبِلْطَاقَةِ ..... دِينَارًا.	-	
		.....
		.....
		=====
		=

بالتوفيق