

الاسم واللقب:

مدرسة:

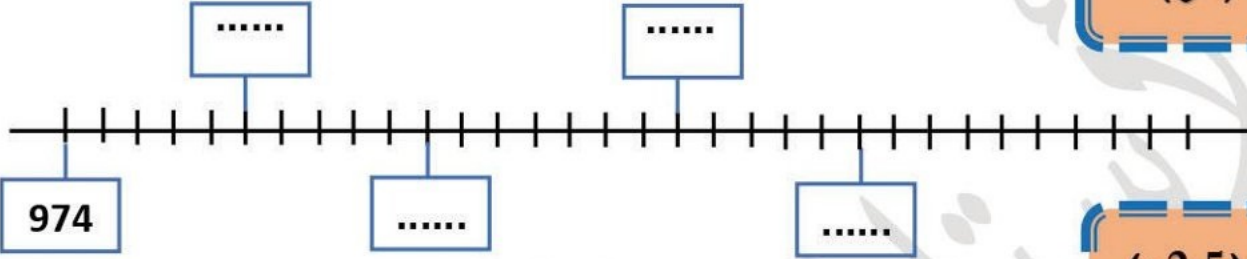
السنة الثانية ابتدائي

السنة الدراسية: 2022-2023

اختبار الفصل الثالث في مادة الرياضيات

أكتب الأعداد المناسبة في الخانات الفارغة:

التمرين 01: (2ن)



أكمل الجدول الآتي حسب المطلوب:

التمرين 02: (2.5ن)

العدد	كاتبته بالحروف	مراتبه	عدد عشراته	نصفه	ضعفه
246 وحدات ... عشرات ... مئات

أنجز العمليات التالية:

التمرين 03: (2ن)

$$\begin{array}{r} 87 \\ \times 4 \\ \hline = . . . \end{array}$$

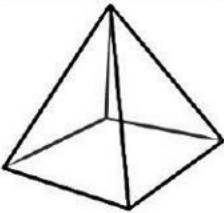
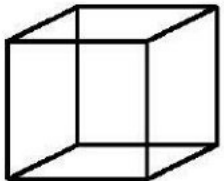
$$\begin{array}{r} 32 \\ - 25 \\ \hline = . . \end{array}$$

$$\begin{array}{r} 59 \\ \times 3 \\ \hline = . . . \end{array}$$

$$\begin{array}{r} 491 \\ - 132 \\ \hline = . . . \end{array}$$

لاحظ المجسمات الآتية جيداً ثم أكمل الجدول الآتي حسب

التمرين 04: (1.5ن)

المجسم	عدد الرؤوس	عدد الأوجه



الوضعية الإدماجية: (2ن)

بمناسبة عيد الفطر المبارك أعطى الأب لأبنائه الأربعة مبلغاً من المال بقيمة **50 دينارا** للفرد الواحد.



1. احسب المبلغ الذي أعطاه الأب لأبنائه.

أرادوا أن يشتروا بهذا المبلغ كرة ثمنها 240 دينارا.

2. هل يكفيهم المبلغ الذي جمعوه؟

الحل

الأجوبة

العمليات

توكل على الله... ثم ركز جيداً يا صغيري في إجابتك حتى تتفوق.

أتمنى لك إجابة مسددة...

مع تمنياتي للجميع كل التفوق والتميز



الأستاذ بكوش جعفر