











## إختبار الفصل الثالث في التربية العلمية والتكنولوجية

إسم ولقب التلميذ..... السنة الأولى ابتدائي

التمرين الأول: أكتب الكلمة المناسبة لكل جسم (صلب) أو (سائل). (2.5 ن)

				
.....	.....	.....	.....	.....
				
.....	.....	.....	.....	.....

التمرين الثاني: إربط كل أداة بمادة صنعها. (1 ن)



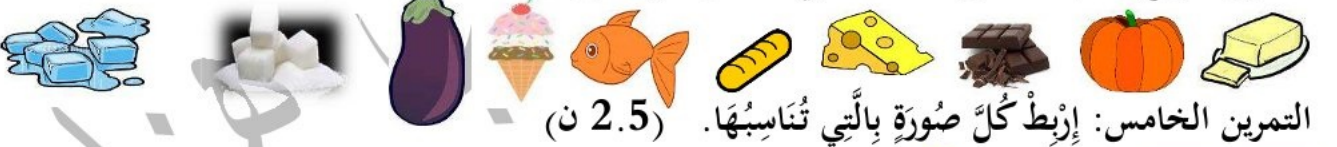
التمرين الثالث: أكمل الفراغ بالكلمة المناسبة: (2.5 ن)

قلم الحبر - قلم الرصاص - السيالة - الألوان المائية - الطباشير

مواد الكتابة و الرسم تترك أثراً يسهُلُ إزالتها عند استعمال ..... أو .....

وتصعبُ عند استعمال ..... أو .....

التمرين الرابع: شطب على الأشياء التي لا تذوب بالحرارة. (1.5 ن)



التمرين الخامس: إربط كل صورة بالتي تناسبها. (2.5 ن)

