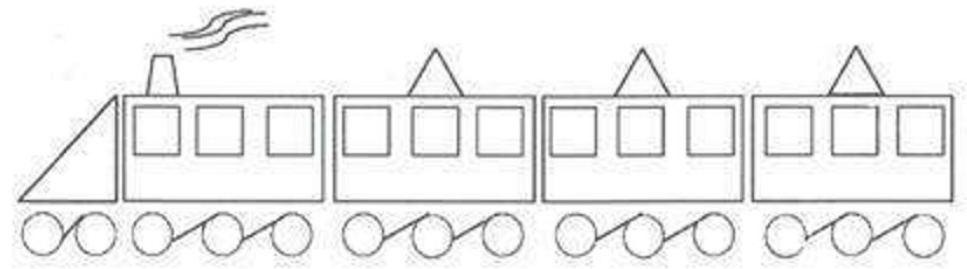


3 نقاط

التمرين الأول


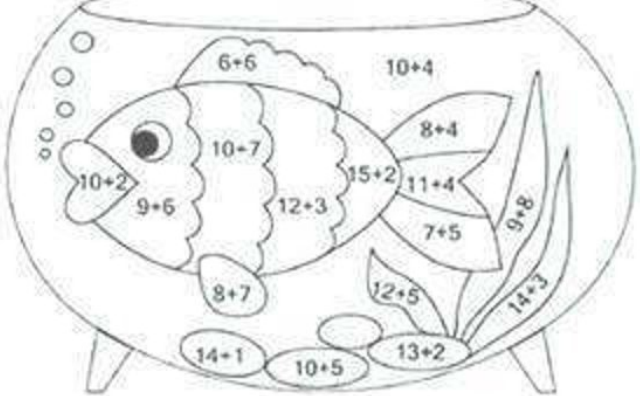





لون : المربعات بالأزرق ، المستطيلات بالأصفر ، الدوائر بالأخضر ، المثلثات بالأحمر.

7 نقاط

التمرين الثاني

### أجد المساويات وألون حسب لون الناتج

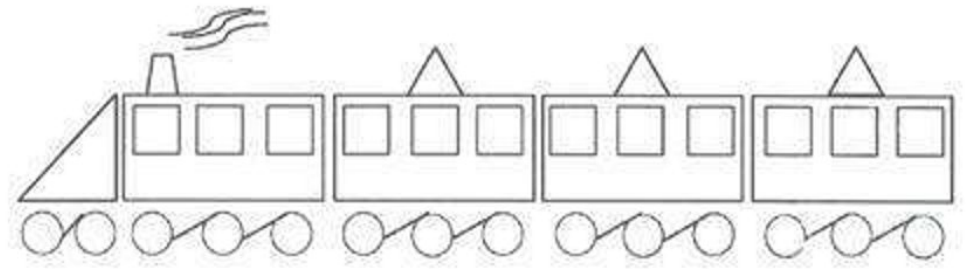
 -14		 -17
 -12		 -15

امضاء الولي

x

3 نقاط

التمرين الأول


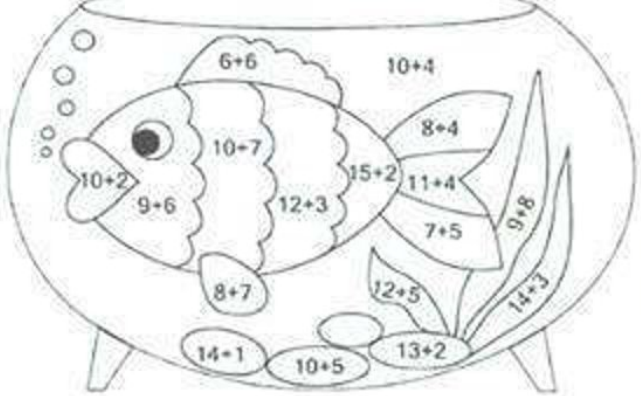





لون : المربعات بالأزرق ، المستطيلات بالأصفر ، الدوائر بالأخضر ، المثلثات بالأحمر.

7 نقاط

التمرين الثاني

### أجد المساويات وألون حسب لون الناتج

 -14		 -17
 -12		 -15

امضاء الولي

x