

التربية الموسيقية

التمرين 1 : 5 نقاط على الحفظ

التمرين 2 : (5ن) أكمل الفقرة : يؤدي العزف في أو في

أنواع العزف و..... و.....

أنواع الفرق الموسيقية و..... و.....









يعرف قائد الفرقة الموسيقية ب.....

التربية التشكيلية

التمرين 1: (5ن) عرف الأشكال المتداخلة

التمرين 2: (5ن) لون الصف الأول من المربعات باللون البنفسجي و الصف الثاني باللون الأصفر ثم


الصقها على المربع الكبير حسب النموذج المعلق على السبورة



العلامة: 08

الاسم واللقب :



ملاحظة ك اضبط أبعاد المربع حتى تكون كل أضلاعه متقايسة

و يسهل إصاق المربعات الصغيرة داخله