

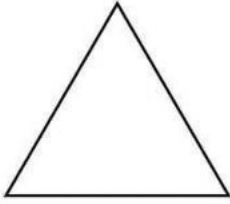


اختبار الفصل الأول في مادة التربية التشكيلية

الاسم و اللقب:

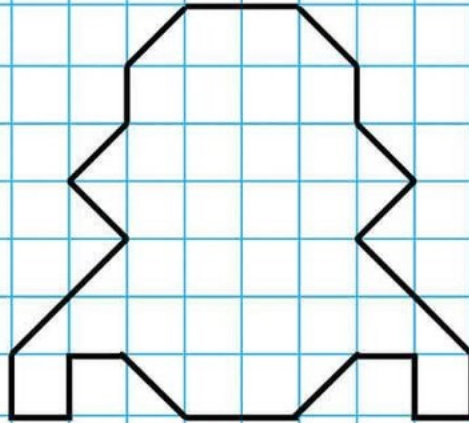
الوضعية 01: (03ن)

التعليمية: سمِّ الأشكال التالية:



الوضعية 02: (07ن)

التعليمية: أرسم أشكالاً متداخلة على الرسم المبيّن أدناه، باستعمال جميع الأشكال الموجودة في الوضعية 01، حسب ماتراه مناسباً، كي تُشكّل لنا مجسماً كالسيارة أو المدفع... إلخ ثمّ لَوْن رَسْمَتِكَ بِشَكْلِ مُتَنَاسِبٍ.



بالتوفيق

ملاحظة: يُمكن استعمال الشكل الواحد مرّتين أو أكثر.